


1 клас

Име училище

1 задача



2 задача

$4 + \square = 11$

$1 + 8 + \square = 17$

$2 + 9 = \square - 4$

$3 + 12 < 16 - \square$

$17 + \square < 12 + 6$

$11 - 5 < 12 - \square < 1 + 7$

3 задача

<, =, > ?

$2 \text{ дес.} - 6 \text{ ед.} \square 1 \text{ дес.} + 5 \text{ ед.}$

$12 \text{ кг} - 3 \text{ кг} \square 4 \text{ кг} + 5 \text{ кг}$

$7 \text{ лв.} \square 8 \text{ лв.} - 2 \text{ лв.}$

$1 + 13 \square 8 + 7$

4 задача Кое не е вярното?

А) $12 \text{ лв.} - 4 \text{ лв.} = 8 \text{ лв.}$

Б) $3 + 5 = 8$

В) $4 + 0 = 4$

Г) $9 \text{ кг} - 3 \text{ кг} = 8 \text{ кг} - 1 \text{ кг}$

5 задача

А)


8	2
6	

17	3
14	

11	?
8	

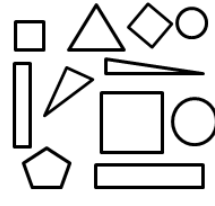

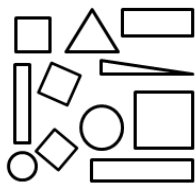
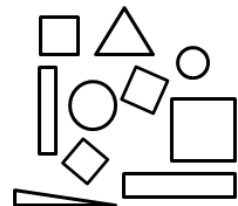
 отг. ...

Б) Номерируйте маските по големина, като започнете от най-голямата.



6 задача

На коя картинка има 2 правоъгълника и 3 квадрата?



А)

Б)

В)

Г)

7 задача

+, -, = ?

$4 \square 6 \square 10$

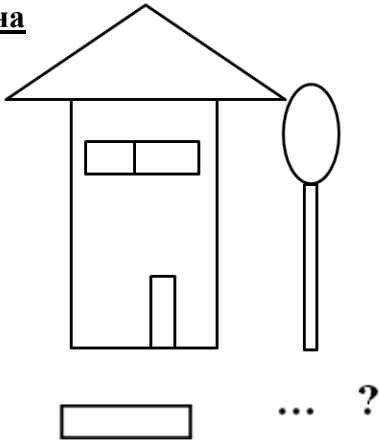
$3 \square 19 \square 16$

$2 \square 9 < 6 \square 7$

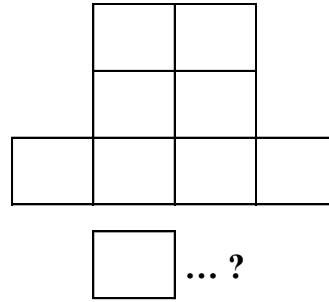
$8 > 9 \square 2$

8 задача

А)



Б)

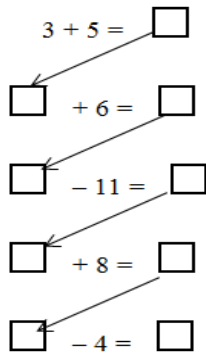


9 задача


Колко от едноцифрените числа в редицата 2, 6, 7, 12, 9, 11, 8 са по-големи от 6? Отг. ...

10 задача

А)



Б)

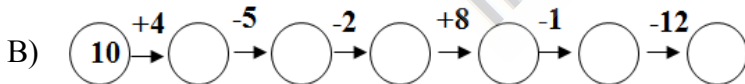


11 задача

А) Кое е следващото число?

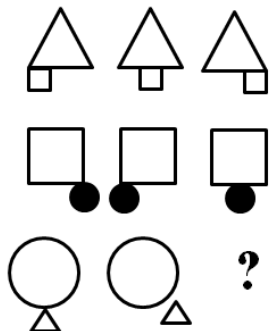
1, 4, 7, 10, 13, ...

Б) Начертайте следващата фигура



12 задача

А)



Б)

♥	☹	❄
☹	❄	♥
❄	♥	?

В)

