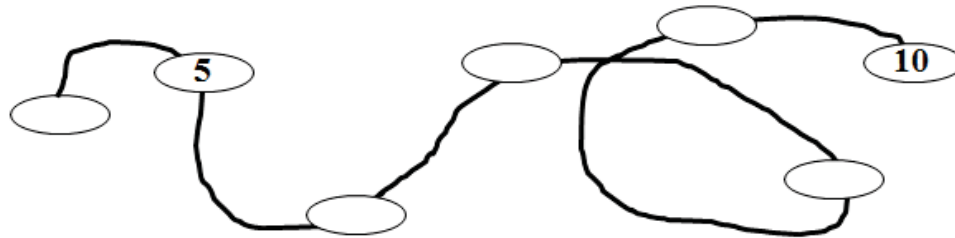


Съюз на математиците в България- секция Плевен
Математическо състезание „Васил Левски“- Плевен - 18.02.2017 г.
1 клас

Имеучилище

1задача



2 задача

$4 + \square = 12$

$\square - 2 = 9 + 3$

$5 + 3 = 15 - \square$

$7 + 3 < 11 - \square$

$9 + \square < 12 - 2$

$2 + 2 < \square - 3 < 3 + 3$

3 задача

$<, =, > ?$

$3 \text{ лв. } \square 4 \text{ лв.}$

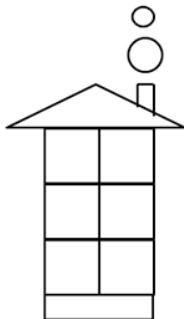
$2 \text{ кг} + 5 \text{ кг } \square 7 \text{ кг}$

$9 - 2 \square 9 - 3$

$10 \text{ кг} + 1 \text{ кг } \square 9 \text{ кг} - 4 \text{ кг}$

4 задача

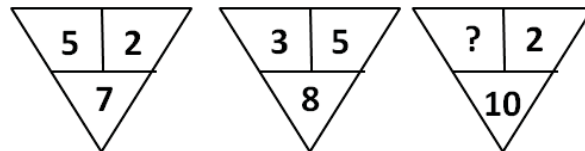
а)



\square ... ?

\bigcirc ... ?

б)



5 задача

$$3 + 8 = \square$$

$$\square - 9 = \square$$

$$\square + 5 = \square$$

$$\square - 1 = \square$$

$$\square + 0 = \square$$

6 задача

$\text{bell} + 4 = \text{star } 13$

$\text{star} - 2 = \text{bird}$

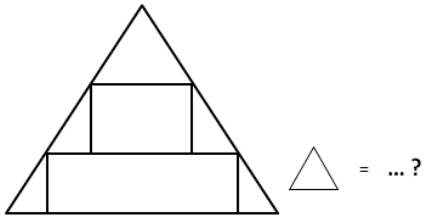
$\text{bird} - \text{bell} = \dots\dots\dots$

7 задача

а) Номерируйте зайците от 1 до 5, като започнете от най-големия.



б) Колко са триъгълниците?



--	--	--	--	--	--

в) Кое е следващото число в редицата?

3, 5, 7, 9, ___

8 задача Кое НЕ е вярно ?

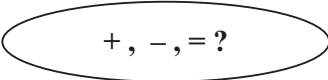
а) 1 дес. + 2 ед. = 12 ед.

б) 1 дес. - 3 ед. = 7 ед.

в) 1 дес. + 4 ед. = 5 ед.

г) 1 дес. + 0 ед. = 10 ед.

9 задача



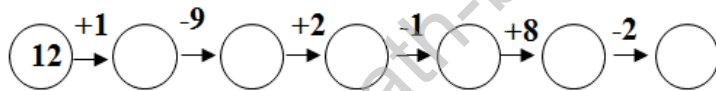
3 5 8

8 10 2

9 > 5 4

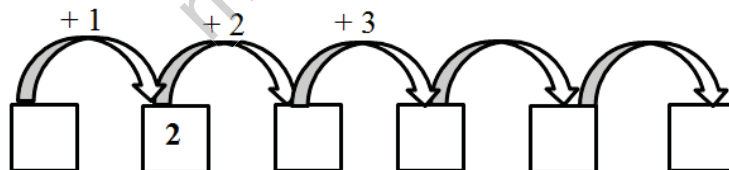
3 5 < 6 4

10 задача



11 задача

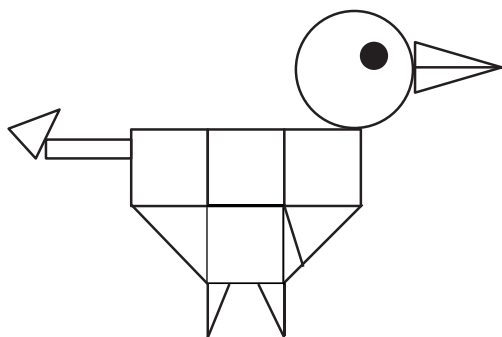
а)



б) Коя е следващата фигура?



12 задача



= ... ?

= ... ?

= ... ?

+ - = ...