


**СМБ- секция Плевен, ОУ "В.Левски"-Плевен**  
**Математическо състезание „Васил Левски“- Плевен - 13.02.2016 г.**  
**1 клас**

Име .....училище .....

**1 задача**



**2 задача**

$7 + \square = 13$

$15 - \square = 3 + 6$

$3 + 8 = \square - 7$

$3 + 9 < 13 - \square$

$7 + \square < 12 - 4$

$19 - 12 < 15 - \square < 4 + 5$

**3 задача**

<, =, > ?

$7 + 3 \square 9$

$4 \square 2 + 3$

$8 - 3 \square 3$

$6 - 1 \square 8 - 2$

**4 задача** Кое е вярното?

А) 10 лв. - 2 лв. = 7 лв.

Б)  $6 + 5 = 13$

В)  $9 + 0 = 9$

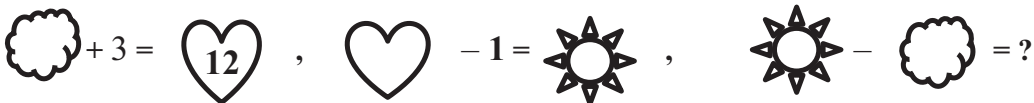
Г)  $17 - 8 = 8$

**5 задача**

А)




Б)




**6 задача**

А)



Б)



**7 задача**

+, -, = ?

4 □ 3 □ 7

2 □ 6 □ 8

12 > 8 □ 4

**8 задача**

Петя има 12 балона, а Вики има 6. Колко балона общо имат двете момичета?

- A) 12
- B) 6
- B) 18
- Г) 17
- Д) 19

**9 задача**

A) В магическия квадрат A=?

8		4
A	5	
		2

A = .....

B) Коя картинка се намира под буквата M?

	*	✋	✂
✂	M		✂
✋			*
	✂	✂	

M = .....

**10 задача**

A) Начертайте следващата фигура



B) Начертайте следващата фигура



B) Кое е следващото число?

3, 6, 9, 12, 15, ...


**11 задача**

Колко правоъгълника съдържат снежинка?



Отг. ...

**12 задача**



△ + □ - ▭ = ...