


СМБ- секция Плевен, ОУ"В.Левски"-Плевен
Математическо състезание „Васил Левски"- Плевен - 14.02.2015 г.
1 клас

Имеучилище

1 задача



2 задача

$4 + \square < 8 - 3$

$9 - 4 < 6 - \square$

$7 + 5 < 14 - \square < 10 + 4$

$5 + \square = 11$

$\square - 3 = 12 + 5$

$4 + 8 = 15 - \square$

3 задача

а) Напишете всички числа между 5 и 9:


б) Напишете числата, съседни на 7:

4 задача

а) Колко са отсечките?



б) Номерируйте гъбките от 1 до 5, като започнете от най-малката.



5 задача

$+, -, = ?$

$11 \square 17 \square 6$

$9 \square 8 \square 17$

$15 > 10 \square 5$

6 задача

$<, =, > ?$

$3 \text{ кг} \square 5 \text{ кг}$

$2 \text{ кг} + 7 \text{ кг} \square 9 \text{ кг}$

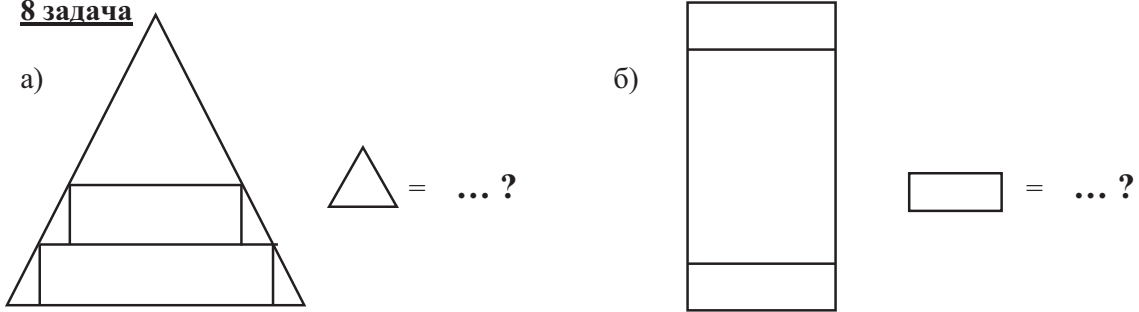
$4 \text{ кг} + 7 \text{ кг} \square 8 \text{ кг} - 3 \text{ кг}$

$18 \text{ лв.} - 4 \text{ лв.} \square 12 \text{ лв.} + 3 \text{ лв.}$

7 задача

Иво написал числата от 9 до 18. Колко цифри общо е написал?

8 задача

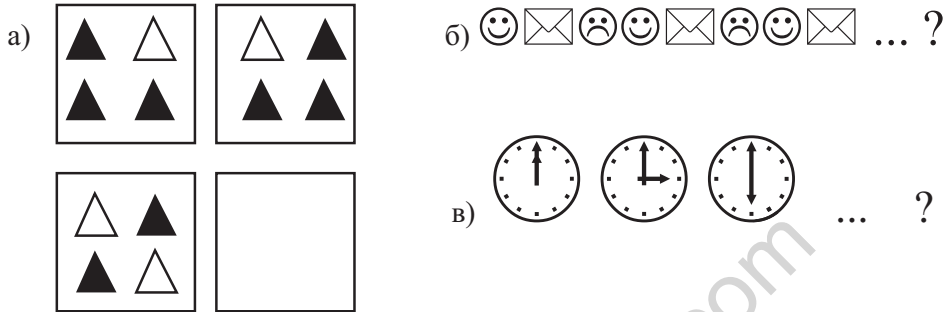


9 задача

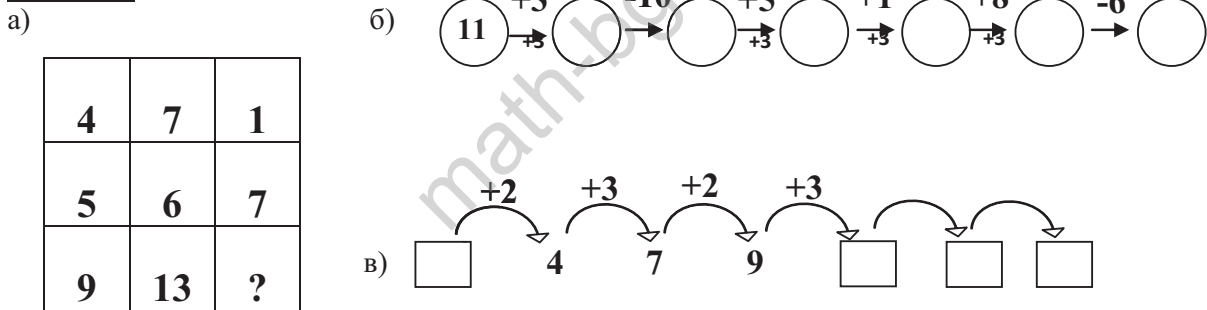
Кое е следващото число?

4, 8, 12, 16, ? ? =

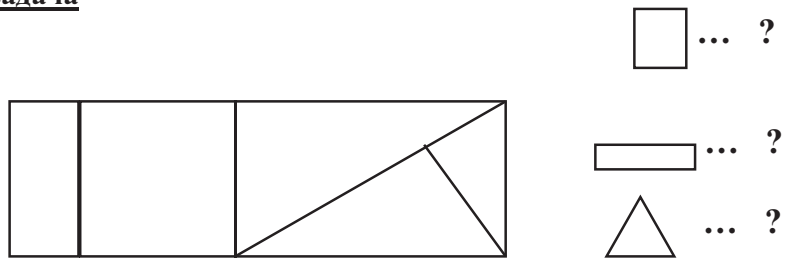
10 задача Начертайте липсващата фигура.



11 задача



12 задача



+ - = ...