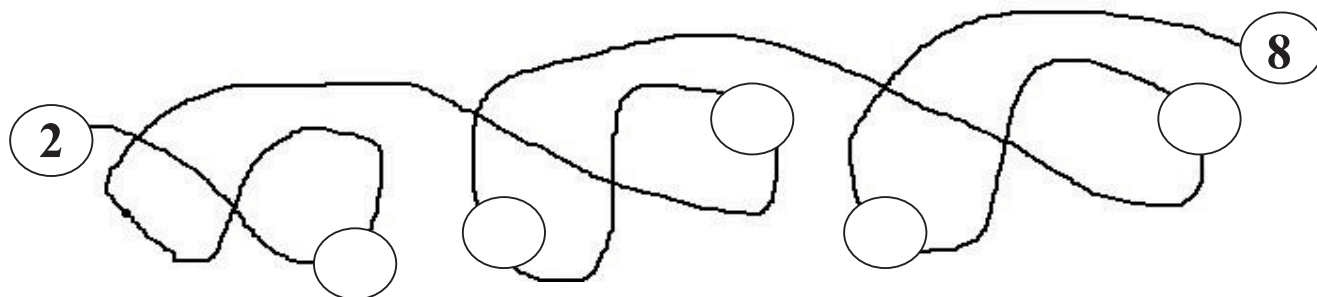
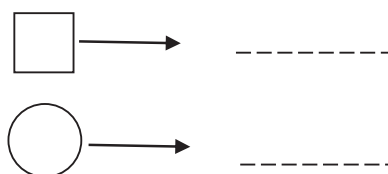
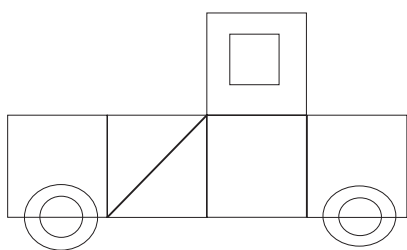


Имеучилище

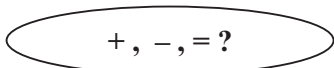
1 задача:



2 задача:



3 задача:



4 9 5 13 > 8 5 15 3 18 12 17 5

4 задача:

2 + 6 =
 а) - 7 =
 + 5 =
 + 3 =
 - 0 =

б) + 4 = 10
 - 1 =
 - = =

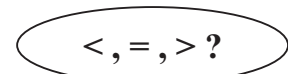
5 задача:

5 лв + = 13 лв 7 лв + 2 лв + 4 лв = лв
 2 лв + 1 лв + лв = 17 лв 9 лв = 3 лв + 7 лв - лв

6 задача: Кое НЕ е вярно ?

а) 4 + 7 = 11 б) 10 - 3 = 7 в) 8 + 0 = 8 г) 8 - 6 = 3

7 задача:



6 см 8 см 3 см + 4 см 7 см 5 см + 3 см 9 см - 2 см

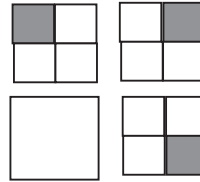
8 задача:

а) В магическия квадрат $A = ?$

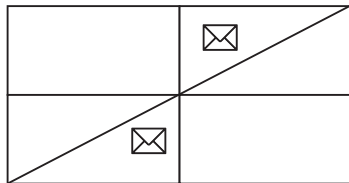
1	A	
		0
2	2	5

$A = \dots\dots\dots$

б) Начертайте липсващата фигура

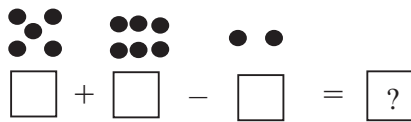


9 задача: В колко триъгълника има писмо?



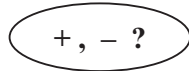
Отг.

10 задача:



? =

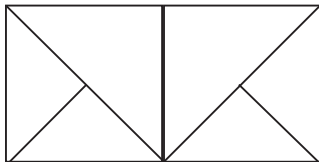
11 задача:



1 ○ 6 ○ 3 ○ 4 ○ 5 = 13

8 □ 2 = 7 □ 1; 10 □ 3 > 2 □ 10; 1 □ 5 = 9 □ 3

12 задача:



△ =

□ =

□ =

△ - □ + □ = ?

? =

Общо точки:

Проверил: