




Състезание „Аз и числата”

I клас


Училище: клас:.....

Име, презиме, фамилия:

1. Открий и запиши пропуснатите числа.

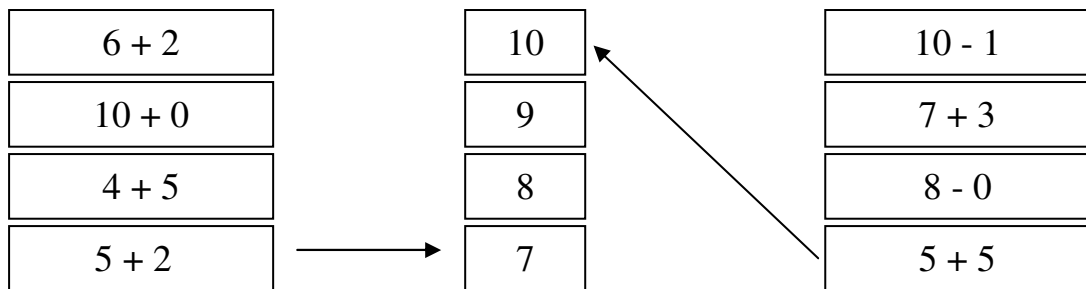




2. Оцвети 6 топчета в червен цвят и 3 топчета в син цвят:



Преброй нецветените топчета. Те са:

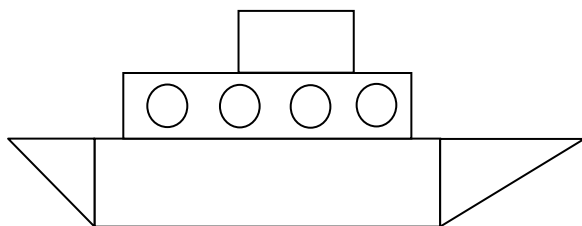
3. Свържи така, че да е вярно:



4. Мими има  и .

Колко плодове има общо?

5. Разгледай корабчето. Преброй геометричните фигури и ги запиши.



Триъгълниците са -

Правоъгълниците са -

Кръговете са -

6. Постави пропуснатия знак „>”, „<” или „=”:

$$10 - 1 \quad \square \quad 7 + 2$$

$$5 + 3 \quad \square \quad 4 + 3$$

$$9 - 4 \quad \square \quad 5 + 4$$

7. Постави пропуснатия знак „+” или „-” така, че да е вярно:

$$5 \quad \square \quad 3 = 8$$

$$9 \quad \square \quad 3 = 6$$

$$10 \quad \square \quad 2 = 8$$

8. В празното квадратче запиши число така, че да е вярно:

$$\square + 1 = 2$$

$$5 + \square = 10$$

$$9 = \square + 6$$

$$7 = \square + 5$$

$$10 = \square + 10$$

$$10 - \square = 0$$

9. Петьо има 7 колички. Подари 2 на Иво. Колко колички му останаха?

Отг: колички

10. Открий пропуснатото число.

$$4 + \square + 3 = 10$$

$$1 + 5 + \square = 9$$

$$10 - \square - 2 = 2$$