



ЕДИНЕН ПРИЕМЕН ИЗПИТ

1700 София, Студентски град "Христо Ботев", www.unwe.acad.bg

ТЕСТ
МОДУЛ 1 + МОДУЛ 2 + МОДУЛ 3 "ИСТОРИЯ НА БЪЛГАРИЯ"

ПРОЧЕТЕТЕ ВНИМАТЕЛНО СЛЕДНИТЕ УКАЗАНИЯ:

Преди началото на изпита получавате книжка с теста, калъфче с две химикалки (тънкописци), линийка и голям плик, в който се намират картата за отговори и малък плик.

Книжката с теста

На левите страници са въпросите, на които трябва да отговорите.

Десните страници са празни и там можете да си водите бележки, които ще ви помогнат да намерите верния отговор.

Книжката с теста не е официален документ и няма да бъде проверявана.

Картата за отговори

Това е официалният документ за вашия изпит, който се проверява от скенер - затова я попълвайте особено внимателно. Тази карта е уникална за всеки участник в теста и не може да бъде подменяна. Отговорите на всички въпроси в картата за отговори имат поредни номера, обозначени с арабски цифри. За всички въпроси са посочени по пет възможни отговора, оградени с кръгчета и обозначени с главни букви от А до Д.

Когато определите верния според вас отговор, маркирайте съответната главна буква с химикалката - тънкописец.

Попълвайте отговорите в кръгчетата като внимавате да **покриете цялата буква и да не излизате извън кръгчето**, което сте избрали за верен отговор – така ще се избегнат грешки при сканирането на вашата карта. Не е позволено изтриване, забелване и всякакви други средства за корекция в картата за отговори. В полетата за отговори е позволено маркиране само вътре в кръгчетата за отговори. Имайте предвид, че не се допуска обжалване и преразглеждане на картата при неправилно маркиране. За всяка грешка и неправилно маркиране отговорността е ваша. Според чл. 45 ал.2 от Правилника за прием на студенти в УНСС «**при неспазване на което и да е изискване от указанията за попълване на теста, работата се анулира**».

10	<input type="radio"/>	<input type="radio"/>	<input checked="" type="radio"/>	<input type="radio"/>	<input type="radio"/>	ПРАВИЛНО МАРКИРАН ОТГОВОР
<i>Всяко друго маркиране е неправилно – скенерът не чете отговора: губят се точки от въпроса или работата се анулира</i>						

Всеки въпрос има само един верен отговор и затова в реда от кръгчета трябва да маркирате само една от посочените главни букви. Маркирането на повече от един отговор ви носи 0 точки, дори единият от тях да е верен.

Контролната карта

Тя се намира под перфорацията в долния край на картата за отговори. Попълнете я внимателно. Контролната карта и картата за отговори са единен документ и имат един и същ идентификационен номер – баркод. Това е вашият идентификационен документ, който ще удостовери, че картата за отговори е вашата карта.

ВНИМАНИЕ! Размяната на вашата контролна карта с друга карта за отговори и обратното е недопустима, защото води до различна идентификация и **работата ви се анулира**. Проверявайте лично за това!

Запълвайте верните отговори само с предоставените ви тънкописци - иначе работата ви също се **анулира**.

Работата се анулира и когато: 1. върху баркода е драскано; 2. драскано е върху празните полета между отговорите; 3. е направен опит да се изтрие вече маркиран отговор; 4. картата за отговори е сгъната; 5. повече от еднократно е прегъната контролната карта.

Успех!

МОДУЛ 1 “БЪЛГАРСКИ ЕЗИК И ЕЗИКОВА КУЛТУРА”

1) Посочете невярното твърдение:

- А) В езиковите регистри не е задължително да се спазват книжовните норми, тъй като тези регистри са необходими на група хора, общуващи помежду си.
- Б) Използването на книжовния език е нужно във всички сфери на обществения живот.
- В) Книжовният език е пълноценно средство за общуване, независимо от кого, къде и как ще бъде използван.
- Г) Многообразните изразни възможности на книжовния език не пречат да се спазват нормите му.
- Д) При всички функции, които книжовният език изпълнява, се съблюдават книжовни норми, за да протича успешно общуването.

2) Посочете в коя от поговорките и пословиците не е допуснато диалектно отклонение от книжовната норма:

- А) Мижи да те лажем.
- Б) Муж ко печурка – ритнеш га, разлети се.
- В) Много думи пари не чинат.
- Г) Мъжът се познава по жената.
- Д) Мета се като риба на сухо.

3) Посочете вярното твърдение:

- А) Речевата ситуация не се променя, ако се промени само един от нейните елементи.
- Б) Речевият етикет се спазва само при официалното общуване.
- В) Уместност и правилност на изказа означават едно и също понятие.
- Г) Актуалността на информацията, съдържаща се в речевото съобщение, не е елемент от речевата ситуация.
- Д) Предметът на общуване не е елемент от речевата ситуация.

4) Посочете невярното твърдение:

- А) Конкретните текстове са тясно свързани с речевата ситуация.
- Б) Допустимо е в делова речева ситуация да се говори понякога и на диалект.
- В) Учтивият тон оказва влияние върху общуването както в официална, така и в неофициална обстановка.
- Г) Речевото поведение предопределя успешното разбиране между участниците в общуването.
- Д) Речевата ситуация е тясно свързана със сферата на общуването.

5) Посочете в кой от примерите няма тавтология:

- А) Може да посетите експонираната изложба в градската галерия.
- Б) Осъщественото реализиране на проекта вече е радостен факт.
- В) Думите му бяха изпълнени с много болка и разочарование.
- Г) Стопанството е много важно за икономиката на една страна.
- Д) В магазина за електроматериали не продават пирони и гвоздеи.

6) Посочете липсващата дума в следното изречение:

Към понятието функционален стил не може да се отнесат жаргонната и ... реч.

- А) научната
- Б) разговорната
- В) художествената
- Г) стандартизираната
- Д) диалектната

7) Посочете в кой от примерите за междусловно уподобяване изравняването между съгласните е по звучност:

- А) над тебе
- Б) от бурята
- В) из пътя
- Г) пред къщи
- Д) под килима

8) Посочете в кой от примерите при произношение съседните съгласни се изравняват като беззвучни:

- А) екзарх
- Б) сбор
- В) подигравка
- Г) сеитба
- Д) отгоре

9) Посочете в кой ред е употребена форма за страдателен залог:

- А) Той е готов на всичко.
- Б) Той е недоволен от всичко.
- В) Ние сме щастливи от всичко.
- Г) Те всички не са облечени добре.
- Д) Ние не сме виновни за всичко.

10) Посочете в коя дума е допусната грешка при употребата на членна форма:

- А) пустошта
- Б) пръстта
- В) пръста
- Г) гадтта
- Д) моста

11) Посочете къде не е допусната грешка при членуването:

- А) Филма, за който приятелят ми не спря да говори снощи, е най-гледания чуждестранен филм през последния месец.
- Б) Филма, за който приятелят ми не спря да говори снощи, е най-гледаният чуждестранен филм през последния месец.
- В) Филмът, за който приятелят ми не спря да говори снощи, е най-гледания чуждестранен филм през последния месец.
- Г) Филмът, за който приятелят ми не спря да говори снощи, е най-гледаният чуждестранен филм през последния месец.
- Д) Филмът, за който приятеля ми не спря да говори снощи, е най-гледаният чуждестранен филм през последния месец.

12) Посочете в кои от подчертаните позиции има грешки:

Още на другият ден(1) след пристигането си(2) той организира(3) протесен митинг(4), на който(5) доидоха много хора(6) из цялата страна(7).

- А) 1, 4, 6, 7
- Б) 2, 4, 5, 6
- В) 1, 3, 5
- Г) 2, 4, 5, 6, 7
- Д) 3, 5, 6, 7

- 13) Посочете кой синоним е най-близък по значение на *печален*:
- А) тъжен
 - Б) меланхоличен
 - В) страдащ
 - Г) потиснат
 - Д) притеснен
- 14) Посочете значението на фразеологичното словосъчетание *троянски кон*:
- А) кон от Троян
 - Б) кон от Троя
 - В) триумфална арка
 - Г) изненадваща хитрост, коварство
 - Д) прелюбодеец
- 15) Посочете в кое от изреченията има грешки:
- А) В курортния комплекс има 60 хотела, като преобладават 3-звездните.
 - Б) Там са изградени и 3 вилни селища, които разполагат със собствени балнеоцентрове.
 - В) За децата се организират различни състезания по водни спортове, дискотеки и незабравими срещи с любими куклени герои.
 - Г) Децата могат да се забавляват на водните парзалки или на специалния детски картинг.
 - Д) Малките могат да се забавляват в детския комплекс, разположен в сърцето на курорта.
- 16) Посочете в кои позиции трябва да има запетая:
“Той не знаеше(1) коя пътека да хване(2) защото не знаеше(3) къде се пада мегданът(4) край(5) който трябваше да мине.”
- А) 1,2,3
 - Б) 2,4,5
 - В) 2,4
 - Г) 1,5
 - Д) 2,5
- 17) Посочете в кои позиции са допуснати грешки:
“Едвам сега Огнянов забелеза(1) (2)че говорещия(3) беше зъптие(4), което по-рано бе съгледъл(5) в(6) ъгъла(7).”
- А) 1, 3, 5, 6, 7
 - Б) 1, 2, 3, 4, 6
 - В) 2, 3, 4, 6
 - Г) 1, 2, 3, 4, 5
 - Д) 3, 4, 5, 7
- 18) Посочете в кой ред няма грешка:
- А) Той стана кандидат по филологически науки.
 - Б) Имай в предвид че информацията не е окончателна.
 - В) Днес ще бъда вкъщи, а утре идвам у вас.
 - Г) Чувствам се като в дома си.
 - Д) Срещата с писателя ще се състои у Дома на книгата.

19) Посочете в кое от изреченията е допусната пунктуационна грешка:

- А) На екскурзията изхарчихме повече пари, отколкото бяхме предвидили в резултат, на което трябваше да вземем заем.
- Б) Записахме се за тази екскурзия, защото искахме да посетим Гърция по празниците.
- В) Очаквахме, че времето в Гърция ще бъде слънчево и по-топло, отколкото беше у нас.
- Г) За съжаление, времето беше доста студено и ветровито.
- Д) Следващия път, когато пътувам в чужбина, първо ще се информирам за прогнозата за времето.

20) Посочете в кои позиции трябва да се поставят запетаи:

Той не ми беше казал(1) че се е записал за участие в състезанието(2) и затова(3) много се изненадах(4) когато получи поканата за кастинга.

- А) 1, 3, 4
- Б) 2, 3
- В) 1, 2
- Г) 1, 2, 4
- Д) в нито една

МОДУЛ 2 „МАТЕМАТИКА – ОСНОВИ”

1) Ако $a \neq 4$, то изразът $\frac{a-5}{a^2-8a+16} - \frac{30}{25a-100}$ е равен на:

- А) $\frac{11-a}{a-4}$
- Б) $-\frac{a+1}{5(a-4)^2}$
- В) $\frac{1}{a-4}$
- Г) $\frac{a+1}{2(a-4)}$
- Д) $\frac{a+2}{5(a-4)}$

2) С колко процента трябва да се увеличи дължината на радиуса на кръг, така че лицето на кръга да се увеличи 4 пъти ?

- А) 15%
- Б) 50%
- В) 200%
- Г) 100%
- Д) 125%

3) Кое е решението на уравнението $1 + \log_2(x-1) = \log_2(x+1)$?

- А) 3
- Б) 2
- В) 4
- Г) 1
- Д) 8

4) Изразът $(\sqrt[3]{11} + \sqrt[3]{3})(\sqrt[3]{121} - \sqrt[3]{33} + \sqrt[3]{9})$ е равен на:

- А) 13
- Б) 12
- В) 14
- Г) $\frac{15}{2}$
- Д) 11

5) Да се намери първият член на геометрична прогресия, за която сумата от първите осем члена е $S_8 = 765$, а частното е $q = 2$.

- А) 2
- Б) 3
- В) 6
- Г) 12
- Д) 5

6) Коя е общата точка за графиките на функциите $y = 2x - 1$ и $y = \frac{x}{2} + 1$?

А) (2, 2)

Б) $(\frac{5}{3}, \frac{4}{3})$

В) (0, 1)

Г) (-2, 0)

Д) $(\frac{4}{3}, \frac{5}{3})$

7) Колко са целите положителни стойности на параметъра a , за които уравнението $x^2 + 2ax + 4 = 0$ няма реални корени?

А) 0

Б) 1

В) 2

Г) 3

Д) 4

8) Решението на неравенството $\frac{1-3x}{5-x} > 1$ е:

А) $x \in (-2, 5)$

Б) $x \in (-\infty, -2) \cup (5, +\infty)$

В) $x \in (5, +\infty)$

Г) $x \in (-\infty, -2)$

Д) Неравенството няма решение

9) Коя е стойността на $2 \sin(-150^\circ) \operatorname{tg} 240^\circ$?

А) -3

Б) $\frac{\sqrt{3}}{3}$

В) $-\sqrt{3}$

Г) $\frac{\sqrt{3}}{2}$

Д) $\frac{1}{2}$

10) Коя е стойността на $\sin \alpha$, ако $\operatorname{tg} \frac{\alpha}{2} = 1$?

А) 0

Б) 1

В) -1

Г) $\frac{1}{2}$

Д) $-\frac{1}{2}$

11) Решенията на уравнението $\sin^2 x - \cos^2 x = \frac{1}{2}$ в интервала $\left[-\frac{\pi}{2}, \frac{\pi}{2}\right]$ са:

А) $x = \pm \frac{\pi}{3}$

Б) $x = \pm \frac{\pi}{2}$

В) Само $x = \frac{\pi}{2}$

Г) Само $x = -\frac{\pi}{2}$

Д) Само $x = \frac{\pi}{4}$

12) Дефиниционното множество на функцията $y = \frac{x}{\sin x}$ е:

А) $x \neq 2k\pi, k \in \mathbf{Z}$

Б) $x \neq \frac{\pi}{2} + k\pi, k \in \mathbf{Z}$

В) $x \neq k\pi, k \in \mathbf{Z},$

Г) $x \neq \frac{\pi}{2} + 2k\pi, k \in \mathbf{Z},$

Д) $x \neq k\frac{\pi}{2}, k \in \mathbf{Z},$

13) Намерете границата $\lim_{x \rightarrow -\infty} 2^{\frac{x}{x-1}}$.

А) 2

Б) 1

В) $+\infty$

Г) 0

Д) -1

14) Дадена е функцията $y = x^2 + \operatorname{tg} 2x$. Намерете $y'(0)$.

А) 0

Б) -2

В) -1

Г) 2

Д) 1

15) Кои от посочените тройки числа могат да бъдат дължини на страни на триъгълник?

а) 3, 4 и 7; б) 10, 4 и 5; в) 5, 12 и 13.

А) Само а)

Б) Само б)

В) Само в)

Г) Само б) и в)

Д) Само а) и в)

16) В равнобедрен триъгълник с дължина на основата 12 отсечката, съединяваща средите на основата и на едното бедро, има дължина 5. Лицето на триъгълника е:

А) 30

Б) 40

В) 45

Г) 50

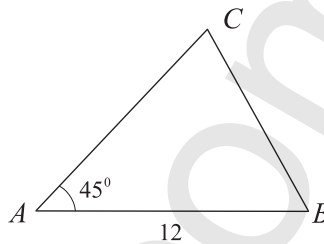
Д) 48

17) За $\triangle ABC$ е дадено, че $\sin \angle BAC = \frac{3}{5}$ и радиусът на описаната окръжност е $R = \frac{25}{2}$. Да се намери страната BC .

- A) 12
- Б) 9
- В) 10
- Г) 18
- Д) 15

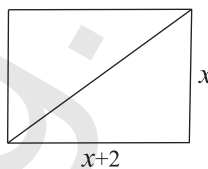
18) Лицето на $\triangle ABC$ е 42, $AB = 12$ и $\angle BAC = 45^\circ$. Да се намери дължината на страната AC .

- A) 8
- Б) 7
- В) $6\sqrt{2}$
- Г) $6\sqrt{3}$
- Д) $7\sqrt{2}$



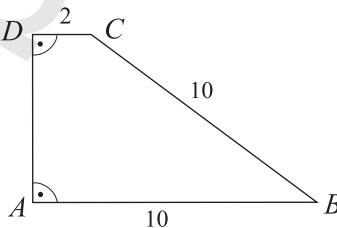
19) Лицето на правоъгълник е равно на 48 и едната от страните му е с 2 по-дълга от другата. Колко е дължината на диагонала на правоъгълника?

- A) 8
- Б) 10
- В) 12
- Г) 15
- Д) Друг отговор



20) На фигурата е даден правоъгълен трапец $ABCD$ с основи $AB = 10$, $CD = 2$ и бедро $BC = 10$. Намерете лицето му.

- A) 24
- Б) 28
- В) 30
- Г) 32
- Д) 36



МОДУЛ 3 “ИСТОРИЯ НА БЪЛГАРИЯ”

- 1) Защо и кой от тримата синове на Омуртаг наследява неговия престол ?
- А) хан Пресиян, защото е най-големият от петимата синове на Омуртаг ;
 - Б) хан Маламир, защото големият му брат Енравота имал християнски убеждения, а другият Званица умира млад;
 - В) хан Маламир, защото е най-голям от тримата синове на хан Омуртаг;
 - Г) хан Крум, защото Омуртаг няма наследници и той поставя началото на нов владетелски род ;
 - Д) хан Пресиян, който поради смъртта на своите двама братя остава единствен наследник .
- 2) Кога пристига в Рим българското пратеничество с въпросите към папа Николай I и кога папата връчва официално отговорите на въпросите на българите ?
- А) делегацията пристига в Рим на 29 август 866 г., отговорите са връчени на 13 ноември 866 г.;
 - Б) делегацията пристига в Рим на 29 август 865 г., отговорите са връчени на 11 ноември 865 г.;
 - В) делегацията пристига в Рим на 20 декември 866 г., отговорите са връчени на 27 декември 866 г.;
 - Г) делегацията пристига в Рим на 9 август 855 г., отговорите са връчени в края на януари 856 г.;
 - Д) делегацията пристига в Рим на 19 юли 867 г., отговорите са връчени след един месец.
- 3) В коя година боляри вдигат бунт срещу християнизацията ?
- А) през 863 г. боляри от всички комитати на държавата;
 - Б) през 865 г. боляри от 10 комитата на държавата;
 - В) през 867 г. боляри от столицата Преслав;
 - Г) през 866 г. боляри от десет комитата на държавата;
 - Д) през 868 г. боляри от западните комитати на държавата, подтикнати от немското кралство.
- 4) Основна административна единица на Първата българска държава са :
- А) общините;
 - Б) областите;
 - В) комитатите;
 - Г) кантоните;
 - Д) хорите.
- 5) С каква цел Петър Делян се обявява за внук на цар Самуил ?
- А) да извлече лична изгода;
 - Б) да предотврати съперничеството си с Алусиан, син на Иван Владислав;
 - В) за да се подчертае приемствеността с българската държавна традиция;
 - Г) за да получи международно признание от Римокатолическата църква;
 - Д) да привлече на своя страна франките.
- 6) В кой исторически извор се съдържат сведения за водените преговори от цар Иван Асен II и латинските барони?
- А) в летописите на Роберт дьо Куртие;
 - Б) в ”Именник на българските ханове”;
 - В) в хрониката на венецианеца Марино Сануто;
 - Г) в ”Стратегикон” на Псевдомаврикий;
 - Д) в надписът на Иван Асен II в църквата “Св. 40 мъченици” в Търново.

- 7) Българската селска община през XV-XVII век :
- А) се ръководи от лица, които са назначени от османската власт;
 - Б) се грижи за събирането на всички данъци от българското население;
 - В) осъществява контактите с османската власт и защитава общите интереси на членовете си;
 - Г) обслужва единствено интересите на Цариградската патриаршия;
 - Д) не съществува.
- 8) Потвърдете вярната теза за трансилванският воевода Янош Хунияди и полско-унгарският крал Владислав III Ягело.
- А) През 1445 година Янош Хунияди, а през 1446 г. Владислав III Ягело организират походи срещу настъпващите към Европа турци;
 - Б) През 1443 г. двамата обединяват своите войски за поход срещу Турция. Поради смъртта на Владислав III похода е осъществен само от Хунияди;
 - В) Янош Хунияди организира само един поход срещу турците. Владислав III Ягело подготвя войски да го подкрепи, но в решителния момент е свален от престола.;
 - Г) През есента на 1444 г. обединените им кръстоносни войски предприемат втори поход срещу турците. Планират овладяването на Източното Причерноморие и Пролитите;
 - Д) През 1543 и 1544 г. Янош Хунияди и Владислав III Ягело организират поход срещу турците. Планират да превземат северните български земи и да прогонят турците в Мала Азия.
- 9) Панаириите по българските земи през Възраждането са :
- А) Средища за забавление на местното население, съчетано с търговия на дребно;
 - Б) Комплекс от сгради, изграден за почивка на пътуващи търговци, където те могат да продават стоките си;
 - В) Перманентно организирани (обикновено ежегодно) крупни средища за търговски обмен на местни и чужди стоки;
 - Г) Постоянни средища за търговски обмен между производителите от града и селото, организирани от местни чорбаджии и влиятелни турци;
 - Д) Места, на които се осъществява само търговия с добитък.
- 10) Паисий Хилендарски черпи сведения за написването на “История славянобългарска” от произведенията на :
- А) Софроний Врачански и Неофит Рилски;
 - Б) Панарет Рашев и Христофор Жефарович;
 - В) Матей Граматик и поп Стойко Владиславов;
 - Г) Петър Богдан Бакшев и Неофит Бозвели;
 - Д) Цезар Бароний и Мавро Орбини.
- 11) През 1873 г. в Свищов е открито :
- А) първото българско читалище;
 - Б) специализирано богословско училище;
 - В) търговско училище;
 - Г) педагогическо училище;
 - Д) килийно училище.
- 12) Началото на организираното националноосвободително движение на българския народ през Възраждането се свързва с живота и дейността на :
- А) Любен Каравелов;
 - Б) Васил Левски;
 - В) Христо Ботев;
 - Г) Георги Стойков Раковски;
 - Д) Иван Касабов.

- 13) Четите на Панайот Хитов и Филип Тотю са въоръжени със средства от :
- А) Добродетелната дружина;
 - Б) Русия;
 - В) ТЦБК;
 - Г) БРЦК;
 - Д) Георги Раковски.
- 14) В брошурата “Български глас” Любен Каравелов :
- А) прави извода, че свободата може да се извоюва само с мирни средства;
 - Б) се обявява против създаването на Южнославянска или Дунавска федерация;
 - В) разработва проект за пътя, по който българите с помощта на Русия могат да извоюват свободата си;
 - Г) излага възгледи, които се смятат за най-високата точка в идейното му развитие. Стига и до извода народът да разчита на собствени сили;
 - Д) отхвърля сътрудничеството с другите балкански народи.
- 15) Кои от посочените сражения имат решително значение за победата на Русия в освободителната Руско-турска война (1877-1878 г.)?
- А) при Свищов и Никопол;
 - Б) при Лозенград и Ескиполос;
 - В) в завоя на р. Черна;
 - Г) при Плевен и Шипка;
 - Д) при Тутракан и Одрин.
- 16) В защита на българите през есента на 1876 г. :
- А) У. Гладстон издава брошурата “Българските ужаси и Източният въпрос”;
 - Б) руският император Александър II обявява война на Турция;
 - В) княз А. Церетелев издава брошурата “Уроци по клане”;
 - Г) английският министър-председател лорд Биконсфилд призовава останалите велики сили да намерят разрешение на българския въпрос;
 - Д) Австро-унгарският император Франц Йосиф разработва програма за реформи в Македония и Одринска Тракия.
- 17) Съветът на руския императорски комисар е създаден:
- А) след края на Руско-турската война (1877 – 1878 г.) и се ръководи от Вл. Черкасски. Има пет отдела.;
 - Б) Успоредно със създаването на Гражданската канцелария през ноември 1876 г. Има първоначално два отдела, след това са увеличени на седем;
 - В) след смъртта на княз Вл. Черкасски, под ръководството на княз Ал.Дондуков – Корсаков и има седем отдела;
 - Г) Създава се през август 1878 г. Има два отдела;
 - Д) Създава се през април 1879 г., със седем отдела.
- 18) Кое правителство и кога внася в III ОНС Законопроект за изменение на Търновската Конституция, а измененията трябва да бъдат узаконени след три години от Велико народно събрание?
- А) Правителството на руските генерали Л. Соболев и Ал. Каулбарс през юли 1883 г.;
 - Б) Правителството на Петко Каравелов през ноември 1884 г.;
 - В) Коалиционното правителство начело с Др. Цанков през декември 1883 г.;
 - Г) Първото правителство на режима на пълномощията по настояване на консерваторите през декември 1882 г.;
 - Д) Правителството на Петко Каравелов през януари 1881 г.

- 19) Най-същественният недостатък на Търновската конституция е:
- А) дава големи пълномощия на монарха;
 - Б) съдилищата правораздават от името на княза;
 - В) изпълнителната власт принадлежи на княза, всички страни на тази власт действат от негово име и под негов контрол;
 - Г) лицето на княза е “свещено и неприкосновено”, което го освобождава от всякаква наказателна и гражданска отговорност;
 - Д) провъзгласените принципи, права и свободи не са достатъчно юридически гарантирани за реалното им приложение.
- 20) Как се води съединистката пропаганда в Източна Румелия от княз Александър Батенберг?
- А) чрез финансираня от Княжеството в. “Съединение” и посредством дейността на епископ Гервасий Левкийски и политическия агент на княза Петър Берковски;
 - Б) чрез организиране на тържества по случай бележити дати като гибелта на Хр. Ботев, Хаджи Димитър и др.;
 - В) чрез финансова подкрепа за политическите партии в Източна Румелия;
 - Г) посредством специален отряд, който пропагандира съединението на Източна Румелия с Княжеството;
 - Д) чрез издавания от Захари Стоянов вестник “Борба”.
- 21) На кого разчита избраният в с. Дермендере Централен комитет на БТЦРК за завземането на властта в Пловдив и провъзгласяване на Съединението?
- А) на народното опълчение;
 - Б) на войската и помощта на въоръжени чети, формирани в областта между 15 и 20 септември 1885 г.;
 - В) на въоръжение чети от Княжество България, които да навлязат в Източна Румелия и да вдигнат всенародно въстание между 2 и 14 септември 1885 г.;
 - Г) на помощта на руската армия и войската в Княжеството;
 - Д) на доброволци от Княжество България и Източна Румелия, включени в народното опълчение.
- 22) Кой и кога изработва основния закон на Източна Румелия?
- А) Европейска комисия по време на Берлинския конгрес изработва и Органически устав за Източна Румелия;
 - Б) по време на Берлинския конгрес представители на Русия, Австро-Унгария и Турция са натоварени да изработят Органически устав за Източна Румелия. Приет е от конгреса на 16 юни 1878 г.;
 - В) Берлинският договор задължава в три месеца след Берлинския конгрес една Европейска комисия с представители на великите сили и Турция да изработи Органически устав за Източна Румелия;
 - Г) Берлинският конгрес решава с по един представител от великите сили да се създаде комисия и през 1879 г. да се изработи основния закон за Източна Румелия;
 - Д) Първото областно събрание на Източна Румелия през есента на 1879 г. изработва и основния закон за областта – Органически устав.
- 23) Лозунгът "С княз Батенберг и с Русия" е отстояван от:
- А) дружинките "България за себе си";
 - Б) привържениците на Др. Цанков и южнобългарските съединисти;
 - В) либералите на д-р В. Радославов;
 - Г) офицерите-русофили;
 - Д) Либералната-каравелистка партия.

- 24) Фердинанд Сакскобургготски е избран за български княз от Третото Велико народно събрание на:
- А) 28 септември 1886 г.;
 - Б) 15 октомври 1886 г.;
 - В) 19 февруари 1887 г.;
 - Г) 25 юни 1887 г.;
 - Д) 2 август 1887 г.
- 25) Първото българско земеделско-промишлено изложение се провежда:
- А) в София през 1889 г.;
 - Б) в Русе през 1891 г.;
 - В) в Пловдив през 1892 г.;
 - Г) в Пловдив през 1893 г.;
 - Д) в Пловдив през 1894 г.
- 26) Кой са министър – председатели на България от края на ноември 1900 г. до 20 февруари 1901 г.?
- А) Тодор Иванчов и Рачо Петров;
 - Б) Д-р Васил Радославов и Тодор Иванчов;
 - В) Константин Стоилов и Петко Каравелов;
 - Г) Рачо Петров и д-р Стоян Данев;
 - Д) министър-председател е само Рачо Петров.
- 27) Какво е отношението на второто стамболовистко правителство към Илинденско-Преображенско въстание?
- А) изпраща оръжие, храна и муниции в подкрепа на въстаниците;
 - Б) започва преговори със Сърбия и Румъния за сключване на военен съюз;
 - В) затваря границите си и оказва помощ на Турция за разгрома на въстанието;
 - Г) стреми се да оказва помощ, като се съобразява с позицията на Великите сили;
 - Д) започва сондажи за създаване на балканска федерация , в рамките на която да бъде решен и българския национален въпрос.
- 28) Какви задължения поема Турция към България по силата на споразумението от 1904 г.?
- А) да одобри подписания договор за митнически съюз между България и Сърбия;
 - Б) да проведе реформи в Македония и Одринска Тракия съгласно програма, изработена в Мюрцшег;
 - В) да разреши на България да подпише нови търговски договори със западноевропейските държави;
 - Г) да освободи от затворите участниците в националноосвободителното движение и да разреши на бежанците от Македония и Одринска Тракия да се завърнат по родните си места;
 - Д) да не пречи за изпълнение на договора между България и Франция за доставяне на въоръжение за армията.
- 29) Кой са причините довели до запазване местопребиваването в Цариград на Българската екзархия през 1883 г.?
- А) разпоредбите на Стефанския мирен договор и твърдата позиция на Русия;
 - Б) настояването на Цариградската патриаршия и западните велики сили;
 - В) постановките на Лондонския протокол и на Търновската конституция;
 - Г) желанието на Високата порта, за която това е изгодно;
 - Д) дипломатическите действия от българска страна, помощта на Русия и съпротивата на българското население в Македония, Одринско, Източна Румелия и Княжество България.

- 30)** Къде са проведени конгресите на ВМОРО през 1905 и 1908 г.?
- А) Солун и Одрин;
 - Б) Горнаджумая и Оборище;
 - В) Рилския манастир и Кюстендил;
 - Г) в с. Смилево и в Ресен;
 - Д) в София и Битоля.
- 31)** В каква насока се развиват демографските процеси в Македония и Одринска Тракия след Берлинския конгрес?
- А) настъпват изменения в негативна посока за българите, но те не довеждат до радикална промяна в народността им състав;
 - Б) засилва се българският елемент за сметка на големите мюсюлмански групи, които се изселват в други области;
 - В) настъпва изравняване на българите с останалите християнски етнически групи;
 - Г) довежда до преобладаване на турците-мюсюлмани в посочени региони;
 - Д) настъпва изравняване между българите и гърците.
- 32)** В Главния щаб за подготовка на въстанието в Битолски революционен окръг влизат:
- А) М. Герджиков, Ан. Лозанчев и Ст. Икономов;
 - Б) Б. Сарафов, Л. Маджаров и Ст. Икономов;
 - В) Хр. Татарчев, Ив. Гарванов и Д. Груев;
 - Г) Д. Груев, Б. Сарафов и Ан. Лозанчев;
 - Д) ген. Ив. Цончев, Я. Сандански и Г. Делчев.
- 33)** Кой български генерал е назначен за първи губернатор на Тракийското военно губернаторство ?
- А) ген. Георги Вазов;
 - Б) ген. Владимир Вазов;
 - В) ген. Христо Хесапчиев и ген. Георги Вълков;
 - Г) ген. Радко Димитриев;
 - Д) ген. Климент Бояджиев.
- 34)** В българо-гръцкият договор (16 май 1912 г.):
- А) двете страни се споразумяват Гърция да участва в подялбата на “спорната” зона, както тя е предвидена в българо-сръбския договор;
 - Б) Гърция потвърждава териториалните договорености относно Македония, заложи в българо-сръбския договор;
 - В) по настояване на Гърция не се третират териториални проблеми;
 - Г) територията на Егейска Македония е разделена на две “безспорни” зони, чиито територии ще бъдат присъединени към България и Гърция след победа срещу Турция ;
 - Д) двете страни се споразумяват след евентуална успешна война срещу Турция Одринска Тракия да принадлежи на България, а Западна Тракия – на Гърция.
- 35)** Водещи в развиващата се промишленост към 1912 г. по относително тегло на капиталовложенията са:
- А) 1. текстилната индустрия; 2. кожарската индустрия;
 - Б) 1. керамично-строителната индустрия (производство на тухли, керемиди, глинени тръби, вар, цимент и др.); 2. текстилната индустрия;
 - В) 1. текстилната индустрия; 2. дървопреработвателната индустрия;
 - Г) 1. хранителната индустрия; 2. дървопреработвателната индустрия;
 - Д) 1. хранителната индустрия; 2. текстилната индустрия.

- 36) Къде и кога започва побратимяване между българските и руските войници?
- А) през лятото на 1918 г. на фронта в Северна Добруджа;
 - Б) през ноември и декември 1917 г. по фронта на р. Днепър;
 - В) през пролетта и лятото на 1917 г. на фронта на р. Серет и делтата на р. Дунав;
 - Г) през зимата на 1917-1918 г., след победата на болшевишката революция, на Източния фронт в Бесарабия;
 - Д) никога не е имало побратимяване. Това са дезертъори, бягащи от руската и българската армия в края на войната през есента на 1918 г.
- 37) Клаузите на Солунското примирие предвиждат (посочете невярното твърдение):
- А) българската армия да се изтегли в старите граници на страната и да се демобилизира (с изключение на няколко войскови съединения);
 - Б) българските войски на запад от р. Вардар остават в плен на Съглашението;
 - В) в определен кратък срок австро-унгарските и германските войскове подразделения да напуснат територията на България;
 - Г) най-важните градове и райони да бъдат окупирани от гръцки и сръбски войски;
 - Д) в стратегически важните райони и градове да бъдат разположени военни подразделения на Франция и Великобритания.
- 38) По време на самостоятелното си управление БЗНС се стреми да преодолее външнополитическата си изолация:
- А) чрез подържане на най-тесни дипломатически отношения с Югославия;
 - Б) чрез подписване на българо – румънски договор за приятелство;
 - В) с посредничеството на САЩ и Англия;
 - Г) чрез сключване на нов Балкански съюз;
 - Д) с посредничеството на Франция.
- 39) Кой е коалиционния партньор на съставеното през октомври 1919 г. от БЗНС правителство?
- А) БРСДП /о/;
 - Б) Демократическата партия;
 - В) Народнолиберална партия;
 - Г) Народната и Прогресивнолиберална партия;
 - Д) Младолибералната и Радикална партия.
- 40) Защо страните победителки във войната се обявяват срещу Закона за трудовата повинност?
- А) смятат, че Германия ще последва примера на България;
 - Б) по принцип не одобряват политиката на земеделското правителство;
 - В) не са съгласни с издигнатите принципи на равенство;
 - Г) опасяват се, че Закона ще бъде подкрепен и в собствените им страни;
 - Д) виждат сходство в организацията на трудовите роти с тази на войската, което влиза в противоречие с клаузите на Ньойския договор.