

ТЕСТ
МОДУЛ 1 + МОДУЛ 2 + МОДУЛ 3 "ИСТОРИЯ НА БЪЛГАРИЯ"

МОДУЛ 1 „БЪЛГАРСКИ ЕЗИК И ЕЗИКОВА КУЛТУРА”

1) Посочете невярното твърдение

- А) За високата езикова култура на човека се съди по спазването на книжовната норма и начина на говорене.
- Б) Човек може да притежава висока езикова култура и без да има обща култура.
- В) Високата езикова култура може да бъде изявена във всички комуникативни сфери.
- Г) Видовете текстове – разговорни, художествени, научни, официално-делови, публицистични, обслужват точно определени сфери на общуване.
- Д) Хората могат да общуват помежду си не само чрез родния си език.

2) Посочете невярното твърдение

- А) Книжовният език се нарича стандартен.
- Б) Книжовният език се нарича понякога литературен.
- В) Наименованието “стандартен” по отношение на книжовния език не отразява задължителен стандарт при употреба на езиковите средства, а означава възможност за изработване на различни стандарти.
- Г) “Литературен” е по-старото наименование на книжовния език.
- Д) Съвременният български книжовен език е представителна форма на общонародния български език.

3) Посочете за каква речева ситуация е типичен следният текст; каква е неговата цел, към коя жанрова форма може да бъде отнесен и кои езикови средства съдържат основната идея

ДОБРИЯТ СЪН НЯМА ЦЕНА, но едно от най-скъпите легла, способни да го осигурят, се продава в луксозен мебелен магазин в Чикаго срещу 49 500\$. Това е цена, по-висока от тази на бърза кола, таксата за обучение в колеж или за парцел земя. За направата на модели като “Вивидус” се използват скъпи естествени материали като коприна, кашмир, вълна от лама и ръчно изплетени конски косми. Спалното бижу е произведено и опиталите го твърдят, че върху него все едно се изтягат на облак в небесата.

- А) официално-делова – констативна – съобщение – едно от най-скъпите легла
- Б) битово-разговорна – въздействаща – съобщение – цена, по-висока от тази на бърза кола
- В) научна – информативна – съобщение – се използват скъпи естествени материали
- Г) медийна – информативно - развлекателна – новина-реклама – добрият сън няма цена
- Д) медийна – развлекателна – анекдот – ... все едно се изтягат на облак в небесата

- 4) Посочете в кой от случаите е допусната неуместна употреба на дума
- А) В заведението не се сервира натурален сок.
 - Б) Документалните кадри представят натуралистично сцени на нечовешка жестокост.
 - В) При тези първобитни племена все още стопанството е натурално.
 - Г) Експертизата установи, че представеният натурален акт е фалшифициран.
 - Д) Един от най-изявените представители на натурализма е Емил Зола.
- 5) Посочете излишното:
- А) холерик
 - Б) политик
 - В) сангвиник
 - Г) флегматик
 - Д) меланхолик
- 6) Посочете подходящия синоним на **Учените търсят под дърво и камък доказателства за други цивилизации:**
- А) навсякъде търсят доказателства
 - Б) от столетия търсят доказателства
 - В) и в гората, и в града търсят доказателства
 - Г) извън научните институти търсят доказателства
 - Д) непрестанно търсят доказателства
- 7) Посочете в кой от примерите не е допусната грешка
- А) Напрежението беше толкова голямо, че размяната на плестници се оказа неизбежна.
 - Б) Според митологичните вярвания ористниците са тези, които предначертават човешката съдба.
 - В) Проведените месни избори показаха неочаквани резултати.
 - Г) Към животновъдната ферма е открит и цех за местни консерви и продукти.
 - Д) Новият вегетариански ресторант предлага богато разнообразие от постни блюда.
- 8) Посочете в коя дума няма грешка при редуване на *К/Ч*:
- А) да отвлеча
 - Б) да се обреча
 - В) да облеча
 - Г) да запеча
 - Д) да помрача

9) Посочете глаголното време и наклонението на следните форми:

бях чела (1), нямаше да учим (2)

- А) (1) минало предварително време - изявително наклонение
(2) бъдеще в миналото(отрицателна форма) – изявително наклонение
- Б) (1) минало предварително време - преизказно наклонение
(2) бъдеще време(отрицателна форма) - изявително наклонение
- В) (1) минало свършено време - преизказно наклонение
(2) бъдеще предварително време - преизказно наклонение
- Г) (1) минало свършено време – изявително наклонение
(2) бъдеще в миналото(отрицателна форма) – преизказно наклонение
- Д) (1) минало свършено време – изявително наклонение
(2) бъдеще време в миналото – изявително наклонение

10) Посочете грешния отговор

*Изменяемите части на речта са съществителното име(1),
прилагателното име(2), съюзът(3), числителното име(4), глаголът(5).*

- А) (1), (4)
- Б) (2)
- В) (3)
- Г) (4)
- Д) (5), (2)

11) Посочете позициите, в които са допуснати граматични и пунктуационни грешки

*Основната спойка между различните среди на народа(1), без, (2) която (3)
е невъзможно да се развие (4) общественно-икономическия (5) и
културния (6) живот, науката, (7) и техниката, (8) е книжовния (9) език.*

- А) 1,2,9
- Б) 2,5,6,9
- В) 1,5,6,7,9
- Г) 2,4,9
- Д) 2,4,5,6,7,9

12) Посочете сложното съставно изречение с подчинено подложно

- 1) Ако се подготвите добре за изпита, ще успеете.
- 2) Те се срещат винаги в уговорения час.
- 3) Видният наш езиковед Александър Теодоров – Балан казва: “Наука без термини е занаят без сечива”
- 4) Да се явяваш на изпитен тест, е голямо изпитание.
- 5) Термини, които са сложни думи, се пишат със съединителна гласна, без съединителна гласна или полуслято.

- А) 1
- Б) 5
- В) 3
- Г) 2
- Д) 4

- 13) Посочете вярното твърдение
- А) Думата съществува само с основното си значение в езика и само с него функционира в речта.
 - Б) Омоними са всички думи, които звучат по един и същ начин.
 - В) Омоними са всички думи с еднакъв звуков състав, но с различно основно значение.
 - Г) Омонимите не могат да се различават от многозначните думи дори и в контекста.
 - Д) Омонимите се употребяват от хора, имащи тънък усет към езика, тъй като и в контекста трудно се различават.
- 14) Посочете невярното тълкуване на думата **номер**:
- А) поредно число на предмет между други еднакви предмети
 - Б) хитра постъпка, хитрост
 - В) мярка за обем
 - Г) размер, големина, качество
 - Д) отделно изпълнявана част от сборно представление или концерт
- 15) **Играя по свирката на някого** се отнася към **безропотно изпълнявам желанията на някого** така, както:
- 1) тракам със зъби – хладно ми е
 - 2) зъб не обелвам – не си мия зъбите
 - 3) вземам някого на прицел – нарочвам някого
 - 4) цепя косъма на две – не правя услуги
 - 5) давам коз в ръцете – подарявам
- А) 1, 2
 - Б) 5
 - В) 3
 - Г) 2, 3
 - Д) 4
- 16) В кои позиции са допуснати правописни грешки
- След като напусна Асенов град (1), той направи няколко (2) неуспешни опита да се свърже със(3) родителите на жена си (4), които преди два (5) три дена си бяха заминали за Долна баня (6).
- А) 1,2,4,5
 - Б) 1,2,3,5,6
 - В) 1,2,3,5
 - Г) 2,3,5,6
 - Д) 2,3,4,5
- 17) Посочете в кои позиции има допуснати грешки
- Бях толкова щаслива(1), когато бях на 21 година (2)и одпразнувах (3) рождения (4) си ден с приятели от софийския (5) университет. (6)
- А) 2,3,4,5
 - Б) 1,3,4
 - В) 1,3,4,5
 - Г) 1,2,3,5
 - Д) 3,5

18) Посочете в кой от случаите правилният изговор на глаголната форма се отличава от правописа:

- А) пържа
- Б) държа
- В) лъжа
- Г) стържа
- Д) мажа

19) Посочете колко запетаи трябва да има в изречението

Независимо от обстоятелството дали преходността на даден глагол е реализирана или не той е преходен щом съдържа в значението си потенциална преходност т.е. възможност за посочения тип. съчетаемост.

- А) две
- Б) три
- В) четири
- Г) една
- Д) пет

20) Посочете в кои позиции има грешки

Какви други практически мерки трябва да предприемем.(1)

Първо,(2) (3) трябва да съберем достатъчно фактология(4) която да се анализира.

Второ(5) (6) трябва, (7) да се направи обобщение на проучената фактология.

Трето. (8) Това е абсолютно необходимо, (9) тъй като(10) експертите ще се базират на нашите проучвания, (11) анализи и(12) обобщения.

- А) 1,4,5,6,7,12
- Б) 2,4,5,8,12
- В) 1,2,3,4,5,6,7
- Г) 3,4,5,6,12
- Д) 3,4,5,6,7

МОДУЛ 2 „МАТЕМАТИКА – ОСНОВИ”

1) На колко е равно $\frac{3x-y}{2y+x}$, ако $\frac{2x}{3y} = \frac{1}{3}$?

- А) 5
- Б) $-\frac{1}{5}$
- В) -5
- Г) $\frac{1}{5}$
- Д) $\frac{1}{2}$

2) Броят на децата към броя на възрастните пътници в един автобус се отнася както 3 : 7 . Какъв е процентът на децата в автобуса?

- А) 21%
- Б) 47%
- В) 33%
- Г) 25%
- Д) 30%

3) Да се намери стойността на израза $(\sqrt[3]{7} - \sqrt[3]{11})(\sqrt[3]{49} + \sqrt[3]{77} + \sqrt[3]{121})$.

- А) 18
- Б) -4
- В) 4
- Г) 77
- Д) $\sqrt[3]{49} - \sqrt[3]{121}$

4) Да се пресметне $64^{\log_8 9}$.

- А) 27
- Б) $3 \cdot \log_8 9$
- В) 81
- Г) $2 \cdot \log_8 9$
- Д) $6 \cdot \log_8 9$

5) Кои са решенията на неравенството $1 + 5^x \leq 0$?

- А) $x \leq 1$
- Б) $x \leq 0$
- В) $x \leq \log_5(-1)$
- Г) $x \leq -1$
- Д) Неравенството няма решение

6) Да се намери сумата от първите 6 члена на геометрична прогресия, за която $a_1 = 3$, $q = \frac{1}{2}$.

А) $\frac{63}{32}$

Б) $\frac{31}{32}$

В) $\frac{189}{32}$

Г) $\frac{93}{32}$

Д) $\frac{127}{32}$

7) Решенията на неравенството $\frac{3x-1}{-3} > \frac{1-5x}{5}$ са:

А) $x > 0$

Б) $x = 0$

В) $x \in \left(\frac{1}{3}, \frac{1}{5}\right)$

Г) Неравенството няма решение

Д) Всяко реално число е решение на неравенството

8) Решенията на неравенството $x^2 - 4 < 0$ са:

А) $-2 < x < 2$

Б) $x > 2$.

В) $x < 2$

Г) $x \in (-\infty, -2) \cup (2, +\infty)$

Д) $x > -2$

9) Кои са решенията на уравнението $\sqrt{2x+3} = x$?

А) 3 и -1

Б) Само 3

В) Само -1

Г) 3 и 1

Д) Уравнението няма решение

10) Коя е стойността на $\sin \frac{13\pi}{6}$?

А) 1

Б) -1

В) $\frac{\sqrt{3}}{2}$

Г) $\frac{1}{2}$

Д) 0

11) Колко на брой са решенията на уравнението $\sin x = \frac{\sqrt{2}}{2}$ в интервала $\left[-\frac{\pi}{2}, \frac{\pi}{2}\right]$?

- А) 0
- Б) 1
- В) 2
- Г) 3
- Д) 4

12) За кои стойности на аргумента функцията $y = \frac{1}{2} \cos x$ приема най-голяма стойност в интервала $[0, 2\pi]$.

- А) $x = \frac{\pi}{2}$ и $x = \frac{3\pi}{2}$
- Б) $x = 0$ и $x = 2\pi$
- В) Само за $x = 0$
- Г) Само за $x = 2\pi$
- Д) Само за $x = \frac{\pi}{2}$

13) Дадени са функциите $f(x) = 2x^2 - x$ и $g(x) = \frac{2x}{|x-3|}$. Намерете $g(f(1))$.

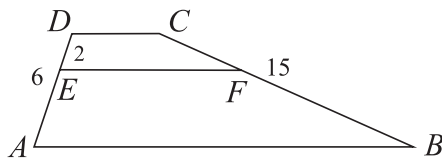
- А) 0
- Б) 1
- В) 2
- Г) -1
- Д) 3

14) Намерете производната на функцията $y = 2 \sin 3x + \frac{1}{\cos x}$.

- А) $y' = 2 \cos 3x - \frac{\sin x}{\cos^2 x}$
- Б) $y' = 2 \cos 3x + \frac{\sin x}{\cos^2 x}$
- В) $y' = 6 \cos 3x - \frac{\sin x}{\cos^2 x}$
- Г) $y' = 6 \cos 3x + \frac{\sin x}{\cos^2 x}$
- Д) $y' = 6 \cos 3x - \frac{1}{\cos^2 x}$

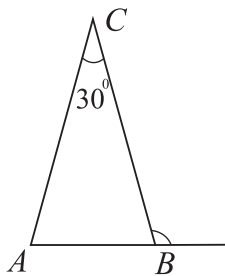
15) За трапеца $ABCD$ ($AB \parallel CD$) са дадени $AD = 6$ и $BC = 15$. Отсечката EF е успоредна на AB . Намерете дължината на BF , ако $DE = 2$.

- А) 6
- Б) 7
- В) 8
- Г) 8,5
- Д) 10



16) За $\triangle ABC$ е дадено, че $AC = BC$ и $\angle C = 30^\circ$. На колко е равен външният ъгъл на $\angle B$?

- A) 105°
- Б) 110°
- В) 115°
- Г) 120°
- Д) 125°

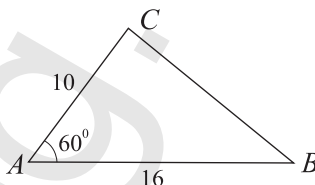


17) В равнобедрен триъгълник дължините на основата и бедрото са равни съответно на 6 и 9. Колко е лицето на триъгълника?

- A) $12\sqrt{2}$
- Б) $18\sqrt{2}$
- В) $18\sqrt{3}$
- Г) $12\sqrt{3}$
- Д) 24

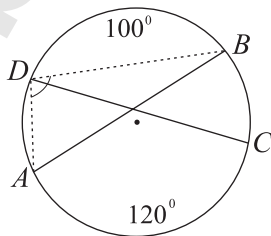
18) Намерете страната на триъгълник, лежаща срещу ъгъл 60° , ако другите две страни са с дължини 16 и 10.

- A) 11
- Б) 12
- В) 13
- Г) 14
- Д) 15



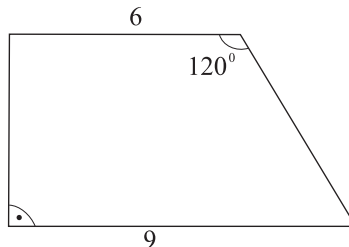
19) На фигурата са дадени хордите $AB = CD$. Ако $\widehat{AC} = 120^\circ$ и $\widehat{BD} = 100^\circ$, то $\angle ADB$ е равен на:

- A) 90°
- Б) 100°
- В) 85°
- Г) 95°
- Д) 105°



20) В правоъгълен трапец основите имат дължини 9 и 6, а тъпият му ъгъл е 120° . Колко е дължината на височината?

- A) $3\sqrt{3}$
- Б) $12\sqrt{3}$
- В) $6\sqrt{3}$
- Г) 6
- Д) Друг отговор



МОДУЛ 3 „ИСТОРИЯ НА БЪЛГАРИЯ”

- 1) Кой български владетел и кога присъединява областта “Загоре” ?
 - А) хан Крум през 804 г. ;
 - Б) хан Кардам през 801 г. ;
 - В) хан Тервел през 705 г. ;
 - Г) хан Омуртаг през 815 г. ;
 - Д) хан Маламир през 831 г. .

- 2) С каква цел княз Борис I изпраща пратеници при крал Людовик Немски през 866 г. ?
 - А) да водят преговори за мир и за сключване на търговски договор;
 - Б) Борис I не е изпращал такава делегация;
 - В) да го моли за помощ срещу Византия;
 - Г) да възобнови съюза си с Людовик Немски, който да го подкрепи при воденето на преговорите с папата;
 - Д) за да му предложи общи действия срещу Великоморавия.

- 3) С каква цел хан Борис сключва военен съюз с владетеля на Великоморавия Ростислав ?
 - А) да популяризира християнството сред среднодунавските славяни;
 - Б) да се противопостави на завоевателните стремежи на Византия и Моравия;
 - В) да обедини усилията на двамата владетели срещу руския княз Игор;
 - Г) да противодейства на евентуален военен съюз между Сърбия и Византия;
 - Д) да се отбият домогванията на Немското кралство над среднодунавските славяни, част от които са в българските земи.

- 4) Кой от посочените автори ни завещава основният извор за Богомилското учение ?
 - А) Константин Преславски;
 - Б) Йоан Екзарх;
 - В) Теофилакт Охридски;
 - Г) Презвитер Козма;
 - Д) Климент Охридски.

- 5) След окончателното завладяване на България от Византия през 1018 г. Константинополското правителство се разпорежда :
 - А) физически да се унищожи цялата българска аристокрация;
 - Б) да се приобщи част от българската аристокрация в управлението;
 - В) да се изсели в Мала Азия българската аристокрация;
 - Г) да се привлекат в управлението само потомците на цар Самуил и някои представители на другите аристократически родове;
 - Д) да се забранят брачните връзки между представители на българската и византийската аристокрация.

- 6) При кой български владетел завършва освободителното дело и окончателното възстановяване на Втората българска държава?
 - А) цар Асен и цар Петър;
 - Б) цар Калоян;
 - В) цар Борил и цар Иван Асен II;
 - Г) цар Иван Асен II;
 - Д) цар Асен I .

7) По своя характер старобългарската литература е:

- А) предимно религиозна с отделни светски елементи;
- Б) научно-популярна;
- В) преводна от западноевропейски образци;
- Г) напълно оригинална;
- Д) изцяло светска.

8) Чрез колонизацията на мюсюлмани по българските земи през XV-XVII век централната власт цели:

- А) да си осигури масова опора в териториите с преобладаващо българско население и да осигури спокойствие в източните части на Османската империя от размирно население;
- Б) да предпази българите от нашествия на други етнически групи;
- В) да подобри финансовото положение на империята;
- Г) да помохамеданчи всички българи;
- Д) да постигне взаимно опознаване между различните етнически групи.

9) Паисий Хилендарски в своето произведение “История славянобългарска”:

- А) призовава българите да спрат емигрирането си в Русия;
- Б) призовава българите да възприемат постиженията и езика на гърците, за да се разграничат от турците;
- В) публикува българския герб и призовава за вдигане на въстание;
- Г) призовава българите към религиозна и културна толерантност спрямо гърците;
- Д) чрез контраста между славното минало и нерадостното настояще внушава идеята за просветно и духовно обособяване на българите и за тяхното освобождение.

10) С какво е свързана датата 3 април 1860 г.?

- А) Неофит Бозвели оповестява първата програма на българското църковно-национално движение;
- Б) осветена е българската църква в Цариград;
- В) Иларион Макариополски не произнася името на гръцкия патриарх по време на Великденската служба в цариградската църква “Св. Стефан”;
- Г) Неофит Бозвели е ръкоположен за търновски митрополит;
- Д) султанът оповестява фермана за създаването на Българската екзархия.

11) Кога и къде Райно Попович открива училища:

- А) през 1845 г. в Габрово и Казанлък открива български училища, в които учат В. Левски, Цанко Дюстабанов, Добри Желязков;
- Б) през 1819 г. открива елино-българско училище в Котел, а през 1826 г. и в Карлово, където учат Г. С. Раковски, Евлоги Георгиев, Гаврил Кръстевич, Ботьо Петков;
- В) през 1858 г. в Сливен и София открива първите девически гимназии;
- Г) през 1840 г. в Копривщица и Пазарджик открива мъжки гимназии, в които учат Станислав Доспевски, Сава Доброплодни, Добри Чинтулов;
- Д) през 50 – те години на XIX в. в Елена и Свищов открива първите български светски училища. В тях учат Гр. Начович, Васил Друмев, Тодор Бурмов, Бачо Киро.

12) В изработения от ТЦБК през 1867 г. “Мемоар” до турския султан се издига искане за :

- А) военни и икономически реформи в Османската империя;
- Б) създаване на южнославянска държава;
- В) създаване на федерация с равноправното участие на всички балкански народи;
- Г) не намеса на балканските християнски държави в разрешаването на българския въпрос;
- Д) създаване на дуалистична турско-българска държава.

13) Кои от посочените възрожденски дейци са представители на консервативното течение в българското националноосвободително движение?

- А) Иван Касабов, Панайот Хитов, Филип Тотю и Стефан Стамболов;
- Б) Любен Каравелов, Пандели Кисимов, Георги Раковски и Петко Славейков;
- В) Панарет Рашев, Христо и Евлоги Георгиеви, Николай Палаузов;
- Г) Тодор Икономов, Иван Касабов, Васил Левски и Хаджи Димитър;
- Д) Христо Ботев, митрополит Панарет Рашев, Георги Раковски и Григор Начович.

14) След разпускането на Втората българска легия Васил Левски :

- А) участва като знаменосец в четата на Хаджи Димитър и Стефан Караджа;
- Б) учителства в село Войнягово;
- В) е хвърлен в Пловдивския затвор;
- Г) окончателно се убеждава, че за успеха на българската революция е необходима предварителна подготовка;
- Д) емигрира в Русия.

15) Кой разкрива турските жестокости извършени при потушаването на Априлското въстание пред правителствата на великите сили и пред световната общественост (посочете грешния отговор)?

- А) управляващия руското дипломатическо консулство в Одрин А. Церетелев;
- Б) журналистът Дж. Макгахан в своите кореспонденции;
- В) генералният консул на американското посолство в Цариград Ю.Скайлер;
- Г) У. Гладстон в брошурите “Българските ужаси и Източният въпрос” и “Уроци по клане или изложение на конфликта между Портата и България през май 1876 г.”
- Д) Н. Г. Криденер, като резултат от обиколката му във въстаналите области;

16) В резултат на Априлското въстание през 1876 г. :

- А) над 50 000 българи емигрират в Русия и Австро-Унгария;
- Б) се закрепва турското владичество над българския народ;
- В) в Османската империя е въведен Мюрцшегският реформен проект;
- Г) са избити над 50 000 българи, 200 селища са изгорени, а други 50 – разграбени;
- Д) са избити над 30 000 българи, 80 селища са изгорени, а други 200 – разграбени.

17) Кога е възстановена окончателно суспендираната от княз Ал. Батенберг Търновска конституция?

- А) От Четвъртото ОНС през лятото на 1886 г.;
- Б) От Великото народно събрание на 25 юни 1887 г.;
- В) Конституцията не е възстановена;
- Г) От Третото обикновено народно събрание, в началото на 1883 г.;
- Д) През април 1881 г..

18) Помощта на Русия по устройството на българската държава обхваща хронологически един от посочените периоди и преминава през няколко етапа:

- А) 1877 – 1880 г. – три етапа;
- Б) 1878 – 1879 г. – два етапа;
- В) 1877 – 1883 г. – три етапа;
- Г) 1876 – 1879 г. – четири етапа;
- Д) 1877 – 1878 г. – три етапа.

- 19) От кого е изработен Органическият устав на Източна Румелия и кога е приет?
- А) от Европейска комисия, съставена от представители на силите участвали в Берлинския конгрес; приет е на 14 април 1879 г.;
 - Б) от Генерал-губернатора на Източна Румелия; приет е на 15 май 1879 г.;
 - В) от турския султан; приет е на 16 април 1879 г.;
 - Г) от Директорията на Източна Румелия; приет е на 15 април 1879 г.;
 - Д) от Областното събрание на Източна Румелия; приет е на 7 октомври 1879 г..
- 20) Между кого се водят борбите за избор на депутати в Първото областно събрание в Източна Румелия?
- А) Между руските дипломати и представителите на западните сили;
 - Б) Между българите от една страна и гърци и турци от друга. Борбите са на национална основа.
 - В) Между русофили и русофоби;
 - Г) Между Княжество България и Турция. Всяка от тях се стреми да вкара в Областното събрание свои привърженици;
 - Д) Между Либералната и Народната партия. Всеки се стреми да получи мнозинство в Областното събрание.
- 21) Кои събития от сръбско-българската война в защита на Съединението свидетелстват за мъжеството и издръжливостта на българския войник и остават в историята на българското военно изкуство? (посочете грешния отговор)
- А) боевете на Сливнишката позиция;
 - Б) защитата на Видинската крепост под ръководството на кап. Узунов;
 - В) двудневните сражения за превземането на Белград;
 - Г) походът на Източния корпус от турската граница до сливнишкия фронт;
 - Д) боевете при Гургулят.
- 22) На кой е лозунгът “България не може без Русия”?
- А) на привържениците на Др. Цанков и южнобългарските съединисти;
 - Б) на Либералната партия в Източна Румелия;
 - В) на Консервативната партия в Княжество България;
 - Г) на офицерите русофили С. Муткуров, Р. Димитриев, Хр. Г. Попов и др.;
 - Д) на княз Александър Батенберг и на Народнолибералната (стамболовистка) партия.
- 23) Бунтовете на офицерите-русофили избухват:
- А) в София през 1891 г.;
 - Б) в Силистра и Русе през 1887 г.;
 - В) в Пловдив и Стара Загора през 1887 г.;
 - Г) във Варна и Бургас през 1888 г.;
 - Д) във Видин и Враца през 1886 г.
- 24) След окончателната абдикация на княз Александър I Батенберг на 25 август 1886 г. първият регентски съвет е в състав:
- А) Ст. Стамболов, подп. С. Муткуров и П. Каравелов;
 - Б) Ст. Стамболов, подп. С. Муткуров и Г. Живков;
 - В) Ст. Стамболов, П. Каравелов и майор К. Никифоров;
 - Г) Ст. Стамболов, П. Р. Славейков и д-р Г. Странски;
 - Д) д-р В. Радославов, Гр. Начович и полк. Д. Николаев.

- 25) Пръв лидер на Народната партия е:
- А) Григор Начович;
 - Б) Стефан Стамболов;
 - В) д-р Константин Стоилов;
 - Г) Иван Евстр. Гешов;
 - Д) Теодор Теодоров.
- 26) Селските бунтове през 1900 г. са предизвикани от:
- А) възстановяването на натуралния десятък от правителството на радославистите;
 - Б) корупцията и злоупотребите на правителството;
 - В) аферата с "гнилите" вагони;
 - Г) формиращото се земеделско движение в България;
 - Д) засилващото се социалистическо движение, което се стреми да завоюва позиции и сред селяните.
- 27) През първото десетилетие на ХХ в. развитието на модерното капиталистическо селско стопанство:
- А) върви с еднакво темпо като в промишлеността;
 - Б) изпреварва модернизиранието на промишлеността;
 - В) изостава от постиженията на промишлеността;
 - Г) върви с еднакво темпо, с леката промишленост;
 - Д) върви с еднакво темпо с тежката промишленост.
- 28) Създаването на БЗНС води до:
- А) разширяване политическото представителство на едрата индустриална буржоазия;
 - Б) приключване изграждането на многопартийната политическа система в България;
 - В) стесняване социалната база на останалите буржоазни партии;
 - Г) заздравяване опорите на монархическата институция;
 - Д) установяване на политически контакти с БРСДП за съвместни работническо-селски действия срещу буржоазията.
- 29) Формулираната в Устава от 1896 г. цел на ВМОРО е :
- А) пълна политическа автономия на Македония и Одринска Тракия;
 - Б) Македония и Одринско да се обединят с България;
 - В) да се извоюват културно-просветни права за българите в Македония и Одринско;
 - Г) да се създаде Балканска федерация, в която да участват Македония и Одринска Тракия;
 - Д) да се образува независима македонска държава.
- 30) През колко периода, според академик Хр. Христов, протича Националноосвободителното движение в Македония и Одринска Тракия след Освобождението от 1878 г. до 1912 г.?
- А) три периода: начален от 1878 г. до 1885 г.; стихийен от 1885 г. до 1893 г.; период на организирано националноосвободително движение 1893 г. до 1912 г.;
 - Б) два периода: стихийен от 1878 г. до 1900 г.; организиран 1901 г. до 1908 г.;
 - В) два периода: стихийен до 1893 г. и период на организирано националноосвободително движение от 1893 г. до Балканската война 1912 г.;
 - Г) два периода: стихийен от 1878 г. до 1903 г.; и организиран от 1903 г. до 1912 г.;
 - Д) три периода: от 1878 г. до 1903 г.; от 1903 г. до 1908 г.; от 1908 г. до 1912 г.

- 31) Как завършва аферата “мис Стоун” ?
- А) мис Стоун е убита от четниците след отказа на Турция да даде откуп;
 - Б) мис Стоун е освободена след даването на искания от ВМОРО откуп;
 - В) мис Стоун е освободена без откуп след обещание да пропагандира каузата на българите в Македония и Одринска Тракия;
 - Г) мис Стоун се включва в борбите на българите и загива по време на сражение с турците;
 - Д) мис Стоун е освободена по нареждане на българското правителство.
- 32) Солунските атентати през април 1903 г. са извършени от:
- А) дейци на ВМОРО;
 - Б) дейци на ВМОК;
 - В) група анархистично настроени патриоти;
 - Г) групата на ген. Ив. Цончев;
 - Д) Българското тайно революционно братство.
- 33) Посочете имената на българските офицери, които са били генерал – губернатори на Македонското военно губернаторство:
- А) ген. Н. Жеков и ген. Н. Иванов;
 - Б) ген. Р. Димитриев и ген. Кл. Бояджиев;
 - В) ген. М. Савов и ген. Ив. Фичев;
 - Г) ген. Хр. Хесапчиев и ген. Г. Вълков;
 - Д) ген. Р. Петров и ген. Ив. Вълков.
- 34) Бившият кореспондент на в. “Таймс” Джеймс Баучер и американският посланик в Атина Мозес посредничат:
- А) за присъединяването на Черна гора към Балканския съюз;
 - Б) за подписването на българо-гръцкия договор (16 май 1912 г.);
 - В) при преговорите между всички балкански страни за създаване на общ съюз срещу Турция;
 - Г) за присъединяването на Румъния към вече оформения Балкански съюз;
 - Д) за подписването на българо-сръбския договор (29 февруари 1912 г.).
- 35) Кой е министър-председател на България на фаталната за страната дата 16 юни 1913 г.?
- А) Димитър Ризов;
 - Б) Ив. Евстр. Гешов;
 - В) В. Радославов;
 - Г) Ал. Малинов;
 - Д) д-р Ст. Данев;
- 36) През Първата световна война Трета българска армия се сражава:
- А) на територията на Вардарска Македония;
 - Б) на територията на Одринска Тракия;
 - В) на северния (Добруджански) фронт;
 - Г) на територията на Егейска Македония;
 - Д) по направление Ниш – Пирот – Белград.

- 37) Кой и кога обявява Радомирската република?
- А) на 29 септември едновременно с подписване на примирието БРСДП обявява България за Република;
 - Б) непосредствено след победата на болшевиките в Русия Българската комунистическа партия обявява България за Република;
 - В) след пробива на Добро поле комунистите в Радомир обявяват страната за Република;
 - Г) комунисти и земеделци в Радомир на 30 септември обявяват България за Република, и издигат Райко Даскалов за министър - председател;
 - Д) на 27 септември 1918 г. пред разбунтувалите се войници в гр. Радомир Райко Даскалов обявява България за Република с председател Александър Стамболийски.
- 38) Кога и защо е подписано Нишкото споразумение между България и Югославия ?
- А) на 17 септември 1922 г., за предаване на Ниш и околностите на Югославия;
 - Б) на 22 април 1923 г., за уреждане на стокообмена между двете страни ;
 - В) на 6 юли 1922 г., за уреждането на митническите отношения;
 - Г) на 23 март 1923 г., за взаимно осигуряване спокойствието на българо-югославската граница и ликвидиране на четите на ВМРО;
 - Д) такова споразумение няма.
- 39) Кога и защо са пуснати от затвора Ал. Стамболийски и Райко Даскалов?
- А) през септември 1918 г. са пуснати от затвора, за да върнат войниците на фронта след пробива на Добро поле;
 - Б) след подписване на Солунското примирие на 29 септември 1918 г., за да търсят сближение с Антантата;
 - В) през декември 1919 г., след подписването на мирния договор, по настояване на силите победителки;
 - Г) когато БЗНС спечелва изборите през 1919 г., за да оглавят правителството;
 - Д) след падане на правителството Малинов – Костурков., през октомври 1918 г., за да влизат в новия кабинет на Ал. Малинов.
- 40) Каква е главната цел, която преследва Конституционният блок?
- А) да спре реформената политика на БЗНС и възстанови политическото статукво в страната;
 - Б) да промени държавната форма на управление;
 - В) да върне Фердинанд на престола, а чрез него да свали земеделците от власт;
 - Г) да преодолее политическата изолация наложена с Ньойския мирен договор;
 - Д) да осигури на България икономически излаз на Егейско море и премахне репарациите.