



ЕДИНЕН ПРИЕМЕН ИЗПИТ

1700 София, Студентски град "Христо Ботев", www.unwe.acad.bg

ТЕСТ
МОДУЛ 1 + МОДУЛ 2 + МОДУЛ 3 "ИСТОРИЯ НА БЪЛГАРИЯ"

ПРОЧЕТЕТЕ ВНИМАТЕЛНО СЛЕДНИТЕ УКАЗАНИЯ:

Преди началото на изпита получавате книжка с теста, калъфче с две химикалки (тънкописци), линейка и голям плик, в който се намират картата за отговори и малък плик.

Книжката с теста

На левите страници са въпросите, на които трябва да отговорите.

Десните страници са празни и там можете да си водите бележки, които ще ви помогнат да намерите верния отговор.

Книжката с теста не е официален документ и няма да бъде проверявана.

Картата за отговори

Това е официалният документ за вашия изпит, който се проверява от скенер - затова я попълвайте особено внимателно. Тази карта е уникална за всеки участник в теста и не може да бъде подменяна. Отговорите на всички въпроси в картата за отговори имат поредни номера, обозначени с арабски цифри. За всички въпроси са посочени по пет възможни отговора, оградени с кръгчета и обозначени с главни букви от А до Д.

Когато определите верния според вас отговор, маркирайте съответната главна буква с химикалката - тънкописец.

Попълвайте отговорите в кръгчетата като внимавате да **покриете цялата буква и да не излизате извън кръгчето**, което сте избрали за верен отговор – така ще се избегнат грешки при сканирането на вашата карта. Не е позволено изтриване, забелване и всякакви други средства за корекция в картата за отговори. В полетата за отговори е позволено маркиране само вътре в кръгчетата за отговори. Имайте предвид, че не се допуска обжалване и преразглеждане на картата при неправилно маркиране. За всяка грешка и неправилно маркиране отговорността е ваша. Според чл.48 ал.2 от Правилника за прием на студенти в УНСС «при неспазване на което и да е изискване от указанията за попълване на теста, работата се анулира».

10	<input type="radio"/> А	<input type="radio"/> Б	<input checked="" type="radio"/> В	<input type="radio"/> Г	<input type="radio"/> Д	ПРАВИЛНО МАРКИРАН ОТГОВОР
<i>Всяко друго маркиране е неправилно – скенерът не чете отговора: губят се точки от въпроса или работата се анулира</i>						

Всеки въпрос има само един верен отговор и затова в реда от кръгчета трябва да маркирате само една от посочените главни букви. Маркирането на повече от един отговор ви носи 0 точки, дори единият от тях да е верен.

Контролната карта

Тя се намира под перфорацията в долния край на картата за отговори. Попълнете я внимателно. Контролната карта и картата за отговори са единен документ и имат един и същ идентификационен номер – баркод. Това е вашият идентификационен документ, който ще удостовери, че картата за отговори е вашата карта.

ВНИМАНИЕ! Размяната на вашата контролна карта с друга карта за отговори и обратното е недопустима, защото води до различна идентификация и **работата ви се анулира**. Проверявайте лично за това!

Запълвайте верните отговори само с предоставените ви тънкописци - иначе работата ви също се **анулира**.

Работата се анулира и когато: 1. върху баркода е драскано; 2. драскано е върху празните полета между отговорите; 3. е направен опит да се изтрие вече маркиран отговор; 4. картата за отговори е сгъната; 5. повече от еднократно е прегъната контролната карта.

Успех!

МОДУЛ 1 “БЪЛГАРСКИ ЕЗИК И ЕЗИКОВА КУЛТУРА”

- 1) Посочете невярното твърдение:
- А) Функционалните стилове в книжовния език са различни “езици”, използвани в различните сфери на личния и обществен живот.
 - Б) Художественият и разговорният стил заемат по-специфично място в системата на функционалните стилове.
 - В) Научният и официално-деловият стил имат неразговорен и книжовен характер.
 - Г) Художествено-публицистичният стил изключва възможността за подчертаване на индивидуален стил.
 - Д) Художествено-публицистичният стил е разновидност на публицистичния.
- 2) Посочете в кой ред няма фонетични диалектизми:
- А) [чита], [играйъ], [стойат]
 - Б) [четъ], [перъ], [стойът]
 - В) [перъ], [пъри], [онейа]
 - Г) [гудини], [фсичку], [фэфруари]
 - Д) [ни мъ плъши], [гльвътъ], [ни мъ гледай]
- 3) Посочете невярното твърдение:
- А) При общуването се създават текстове.
 - Б) Създаването на текстовете се извършва винаги в конкретна комуникативна ситуация.
 - В) Участниците в комуникативната ситуация не “играят” никаква роля в нея – тя е създадена извън тяхната воля и цел.
 - Г) Всеки един от нас в различна речева ситуация “играе” съответната роля.
 - Д) Участниците в конкретната речева ситуация определят тона на общуването.
- 4) Посочете кой е адресатът на следното послание:
- Мили деца,
Днес вие за първи път пристъпвате прага на родното училище. Добре дошли в училището, което се гордее със своята стогодишна история.*
- А) директорът на училището;
 - Б) родител на първокласник;
 - В) ученици от горните класове;
 - Г) първокласниците;
 - Д) министърът на образованието.
- 5) Посочете коя от думите не е хипоним на хиперонима РЕЛИГИЯ:
- А) християнство
 - Б) юдаизъм
 - В) фундаментализъм
 - Г) будизъм
 - Д) ислям
- 6) Посочете кои са липсващите думи в изречението:
- Пред съда е ... дело за ... на имущество.*
- А) започнато разделяне
 - Б) иницирано деление
 - В) заведено делба
 - Г) задействано делене
 - Д) отпочнато поделяне

- 7) Посочете думата, в чиято форма за мъжки род, единствено число, действа законът за непостоянно –Ъ:
- А) разказали
 - Б) донесли
 - В) написали
 - Г) ръждясали
 - Д) втасали
- 8) Посочете невярното твърдение относно редуцията на гласни – един от звуковите закони в съвременния българския език:
- А) Това е явление, което засяга само неударените гласни.
 - Б) Същността на редуцията се изразява в приближаване на гласежа на широките гласни А, О, Е към гласежа на съответните тесни гласни Ъ, У, И , без да се стига до пълно покритие.
 - В) Редуция означава и обратното на формулираното в Б) явление, но в по-малка степен.
 - Г) Книжовният изговор се основава на западнобългарските произносителни особености, т.е. редуцията е ограничена и засяга само А-Ъ, О-У.
 - Д) Книжовният изговор се основава на източнобългарските произносителни особености, където редуцията е пълна и засяга и гласните Е-И.
- 9) Посочете глаголното време и наклонение на следните форми:
бях ял (1), щях да ходя (2)
- А) (1) минало свършено време – изявително наклонение
(2) бъдеще време – изявително наклонение
 - Б) (1) минало предварително време – изявително наклонение
(2) бъдеще време в миналото – изявително наклонение
 - В) (1) минало предварително време – преизказно наклонение
(2) бъдеще време в миналото – изявително наклонение
 - Г) (1) минало свършено време – преизказно наклонение
(2) бъдеще време в миналото – преизказно наклонение
 - Д) (1) минало предварително време – изявително наклонение
(2) бъдеще време в миналото – преизказно наклонение
- 10) Посочете в кое от изреченията не е допусната грешка при употребата на местоимения:
- А) На никой не съм казвала това, ти си първата, на която ще разкажа как се случи всичко.
 - Б) Тя наистина много я беше срам в началото, но след това забрави за притеснението и всичко ми призна.
 - В) Той постоянно ме пита за кой ще гласувам на изборите.
 - Г) Не мога да имам доверие на никого, нали всички сме конкуренти за първото място.
 - Д) Това не беше тайна за никой от нас.
- 11) Посочете коя дума от подчертаните е неизменяема:
В същия(1) този момент(2) зад гърба ми(3) едно истерическо "ха-ха-ха!"(4) разцети въздуха(5).
- А) 3
 - Б) 1
 - В) 4
 - Г) 5
 - Д) 2

- 12) Посочете в кои от подчертаните позиции има грешки:
Трябва да се работи (1) на неколко места (2), за да може да се съществува (3) нормално – това се указва (4) единствения начин (5) за справяне със ситуацията (6).
- А) 1, 3, 5, 6
Б) 2, 4
В) 1, 3, 4
Г) 2, 4, 5, 6
Д) 3, 5, 6
- 13) Посочете реда, в който има омоними:
А) чай - чай
Б) маса - маса
В) параметър - параметър
Г) клапа - клапа
Д) колония – колония
- 14) Посочете реда на паронимите:
А) известен, прочут, популярен
Б) стар, архаичен, вехт
В) стоя, стая, стаен
Г) хипноза, хипотенуза, хипотеза
Д) вълна, вълнен, вълнение
- 15) *Виждам се в чудо се отнася към изпадам в затруднение, както:*
А) *слагам в джоба си някого – притискам някого*
Б) *настръхват ми косите – студено ми е*
В) *свиркам си – безгрижен съм*
Г) *вода хорото – най-издръжлив съм от всички*
Д) *хвърлям прах в очите – благодарен съм*
- 16) Посочете в кои позиции има допуснати грешки:
Уважаема госпожа (1) Директор, (2)
моля (3) да ми бъде разрешено да оцъствам (4) по не (5) отложни
домашни причини една седмица след Велик (6) ден.
- А) 2,3,4,5,6
Б) 1,3,4,5,6
В) 1,2,4,6
Г) 2,3,4,5
Д) 1,2,3,4,5
- 17) Посочете къде са допуснати грешки:
И утре времето ще остане облачно(1) и магливо(2), а по Черноморието(3) ще духа
слаб до умерен(4) вятър от Изток(5).
- А) 1, 5
Б) 4, 5
В) 2, 5
Г) 2, 3
Д) 3, 4

- 18) Посочете в кои позиции трябва да се поставят запетаи:
Гратисният период (1) който ползвате (2) при връщане на сумата (3) е 45 дена (4) след (5) което не се правят никакви отстъпки.
- А) 1, 2, 4
 - Б) 1, 3, 4
 - В) 2, 3, 5
 - Г) 1, 5
 - Д) 3, 4, 5
- 19) Посочете липсващите препинателни знаци в следното изречение:
Имаше обаче един човек който бе умрял в навечерието на Освободителната война и който възкръсна не а можа да изпита удивлението на един възкръснал при вида на освободена България.
- А) две тирета
 - Б) три запетаи
 - В) една запетая и едно тире
 - Г) две запетаи и едно тире
 - Д) четири запетаи
- 20) Посочете в кое от изреченията е допусната пунктуационна грешка:
- А) Виждам, че си много уморен.
 - Б) Докато стилът може да остане относително постоянен, дизайнът се мени непрестанно.
 - В) Видях го да чака на спирката с един голям букет рози.
 - Г) Видяхме се с тебе преди две години, когато бяхме на почивка в Банско.
 - Д) Всички виждате, колко много държа на нея, а тя не иска да знае.

МОДУЛ 2 „МАТЕМАТИКА – ОСНОВИ”

- 1) Ако $(x + y)^2 = 30$ и $x^2 + y^2 = 20$, то $x^2 y^2$ е равно на :
- А) 49
 - Б) 25
 - В) 81
 - Г) 16
 - Д) 9
- 2) Неравенството $|x - 11| \leq 4$ е еквивалентно на:
- А) $-2 \leq x \leq 1$
 - Б) $7 \leq x \leq 15$
 - В) $-3 \leq x \leq 6$
 - Г) $-6 \leq x \leq -3$
 - Д) $3 \leq x \leq 6$
- 3) Кои са решенията на неравенството $\log_2 \sqrt{3x - 2} > \log_2 x$?
- А) $x > \frac{2}{3}$
 - Б) $x \in \left(\frac{2}{3}, 1\right)$
 - В) $x \in (1, 2)$
 - Г) $x \in (-\infty, 1) \cup (2, +\infty)$
 - Д) $x \in (2, +\infty)$
- 4) Кои от неравенствата: а) $(2,2)^{0,3} > 1$, б) $(3,7)^{-0,7} < 1$, в) $(0,5)^{-0,2} > 1$ са верни?
- А) Само а)
 - Б) Само б)
 - В) Само в)
 - Г) Само а) и б)
 - Д) И трите са верни
- 5) За аритметична прогресия е дадено, че $a_1 = 4$, $d = 2$ и $a_n = 200$. На колко е равно n ?
- А) 78
 - Б) 64
 - В) 100
 - Г) 99
 - Д) 115
- 6) Решението на системата
$$\begin{cases} \frac{2x}{3} - \frac{3y}{2} = -1 \\ -4x + 9y = 6 \end{cases}$$
 е:
- А) $\left(\frac{3}{2}, \frac{4}{3}\right)$
 - Б) $\left(0, \frac{2}{3}\right)$
 - В) $\left(\frac{1}{2}, \frac{1}{3}\right)$
 - Г) Системата няма решение
 - Д) Системата има безбройно много решения

7) Функцията $y = \frac{1}{2}x^2 - \frac{1}{3}x + 1$ достига най-малката си стойност при:

А) $x = 3$

Б) $x = \frac{1}{2}$

В) $x = \frac{1}{3}$

Г) $x = -\frac{1}{3}$

Д) $x = 0$

8) Кои са решенията на неравенството $-x^2 - 5x + 6 < 0$?

А) $x \in (-\infty, -6) \cup (1, +\infty)$

Б) $x \in (-\infty, 2) \cup (3, +\infty)$

В) $x \in (2, 3)$

Г) $x \in (-6, 1)$

Д) $x \in (-\infty, +\infty)$

9) Решенията на уравнението $\sqrt{x^2 - 8x + 16} = x - 4$ са:

А) Само $x = 4$

Б) Само $x = \pm 4$

В) $x \in (-\infty, +\infty)$

Г) $x > 4$

Д) $x \geq 4$

10) Коя е стойността на $\cos \alpha$, ако $\sin \frac{\alpha}{2} = \frac{2\sqrt{2}}{3}$?

А) $\frac{1}{9}$

Б) $-\frac{7}{9}$

В) $\frac{7}{9}$

Г) $\frac{5}{9}$

Д) $-\frac{1}{9}$

11) Коя е стойността на $2 \sin 135^\circ \cdot \cotg 315^\circ$?

А) $\sqrt{2}$

Б) $\frac{\sqrt{2}}{2}$

В) $-\sqrt{2}$

Г) $\frac{\sqrt{3}}{2}$

Д) $\frac{1}{2}$

12) Решенията на уравнението $\sin^4 x - \cos^4 x = \frac{1}{2}$ в интервала $\left[-\frac{\pi}{2}, \frac{\pi}{2}\right]$ са:

А) $x = \pm \frac{\pi}{3}$

Б) $x = \pm \frac{\pi}{2}$

В) Само $x = \frac{\pi}{2}$

Г) Само $x = -\frac{\pi}{2}$

Д) Само $x = \frac{\pi}{4}$

13) Намерете границата $\lim_{x \rightarrow 0} \frac{\sin 3x}{x}$.

А) 1

Б) 0

В) $\frac{1}{3}$

Г) 3

Д) -1

14) Дефиниционното множество на функцията $\frac{1}{\lg \sqrt{x-1}}$ е:

А) $x > 1$

Б) $x \neq 2$

В) $x \in (1, 2)$

Г) $x \in (1, 2) \cup (2, +\infty)$

Д) $x \in (0, 1)$

15) Дадена е функцията $y = \frac{\sin^2 2x}{2}$. Намерете $y' \left(\frac{\pi}{4} \right)$.

А) 1

Б) 0

В) -1

Г) $\frac{1}{2}$

Д) $\frac{\sqrt{2}}{2}$

16) Продълженията на бедрата AD и BC на трапеца $ABCD$ се пресичат в точка P . Дадено е, че $AD = 6$, $DP = 3$ и $AB = 18$. На колко е равна дължината на малката основа CD ?

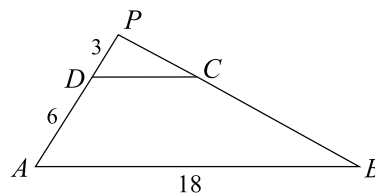
А) 9

Б) 8

В) 6

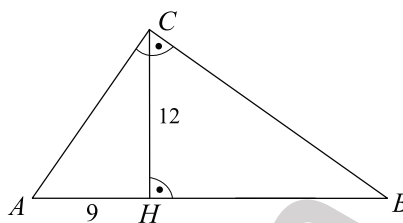
Г) 5

Д) 4



17) На фигурата $\triangle ABC$ е правоъгълен и $CH = 12$ е височина към хипотенузата, $AH = 9$.
Дължината на катета BC е:

- А) 10
- Б) 12
- В) 14
- Г) 16
- Д) 20

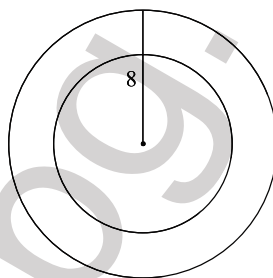


18) Двете страни на остроъгълен триъгълник са 12 и 8. Да се намери ъгълът между тях, ако лицето на триъгълника е $S = 24$.

- А) 45°
- Б) 30°
- В) 75°
- Г) 60°
- Д) Друг отговор

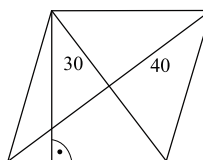
19) Лицата на кръговете, ограничени от две концентрични окръжности, се отнасят както 2:1. Външната окръжност има радиус 8. Да се намери радиусът на вътрешната окръжност.

- А) 5
- Б) $4\sqrt{2}$
- В) 6
- Г) $2\sqrt{3}$
- Д) $3\sqrt{2}$



20) Да се намери височината на ромб, чиито диагонали имат дължини 30 и 40.

- А) 18
- Б) 20
- В) 22
- Г) 24
- Д) 25



МОДУЛ 3 „ИСТОРИЯ НА БЪЛГАРИЯ”

- 1) Кой автор не дава сведения за ранната история на славяните ?
- А) Прокопий Кесарийски ;
 - Б) Йоан Кинам;
 - В) Тацит ;
 - Г) Клавдий Птоломей ;
 - Д) Плиний Стари.
- 2) Кои са славянските племена обитавали Пелопонес ?
- А) езерци и милинги;
 - Б) ринхини;
 - В) драговити и сагудати;
 - Г) смоляни;
 - Д) велегезити.
- 3) Кой български владетел през IXв. превзема град Солун?
- А) Хан Крум след успешна война през 813г. срещу Византия.
 - Б) Цар Симеон през 895г., след разгрома на византийците при Ахелой.
 - В) Княз Борис I след приемане на християнството от Константинополската Патриаршия получава град Солун, където населението в мнозинството си е славянско.
 - Г) През IXв. нито един български владетел не успява да присъедини град Солун към българската държава.
 - Д) Град Солун е завладян от кръстоносците към средата на IXв. След напускането на града славяните вдигат въстание и се присъединяват към българската държава
- 4) Кой цар е признат от Българската православна църква за светец ?
- А) цар Симеон (893-927);
 - Б) цар Гаврил Радомир (1014-1015);
 - В) цар Самуил (997-1014);
 - Г) цар Петър (927-969);
 - Д) цар Иван Владислав (1015-1018).
- 5) Кой застава начело на Българската църква непосредствено след падането на България под византийска власт?
- А) Йоаким Осоговски;
 - Б) Йоан Орфанотроф;
 - В) Гаврил Лесновски;
 - Г) Прохор Пчински;
 - Д) Йоан Дебърски.
- 6) Войските на византийския император Исак II Ангел са разбити от българите през 1190 г. при:
- А) крепостта Ключ;
 - Б) прохода Траянови врата;
 - В) Клокотница;
 - Г) р. Ахелой;
 - Д) Тревненския проход.
- 7) Известният Светославов сборник е съставен :
- А) около 915 г., от Константин Преславски;
 - Б) около 895 г. от Тудор Доксов;
 - В) около 915 г. под непосредственото ръководство на цар Симеон;
 - Г) около 915 г. по идея на Черноризец Храбър;
 - Д) около 895 г. от светите братя Кирил и Методий.

- 8) Чрез политическата си дейност от 40-те до 70-те години на XVII век Петър Парчевич цели
- А) организиране на антитурско въстание с център в Търново;
 - Б) организиране на въстание срещу османската власт в Югозападните български земи;
 - В) организиране на противоосманска коалиция, която да извоюва освобождението на българския народ;
 - Г) формиране на чети от емигранти, които да навлязат в българските земи и да предизвикат антитурско въстание;
 - Д) образуване на дуалистична турско-българска държава.
- 9) При подготовката на Първото Търновско въстание срещу османското владичество :
- А) Петър Парчевич получава обещание за парична помощ от руския цар Иван IV Грозни;
 - Б) австрийският император обещава помощ от 6 000 войници и финансова подкрепа;
 - В) българите получават помощ от Владислав III Ягело и от Янош Хуниади;
 - Г) се включва и хайдушкия войвода Карпош.;
 - Д) за български цар е провъзгласен потомъкът на Иван Срацимир – Ростислав Стратимирович
- 10) В резултат на Видинското въстание от 1850 г. :
- А) турското правителство е принудено да проведе аграрната реформа в Северозападна България;
 - Б) Сърбия и Черна гора получават независимост;
 - В) избухва Кримската война (1853-1856 г.);
 - Г) европейската общественост се обявява в защита на българите и правителствата на великите сили разработват проекти за автономия на България;
 - Д) се свиква Цариградската конференция.
- 11) Кои от следните възрожденски дейци получават образованието си в Русия?
- А) Георги Раковски и Н. Бозвели;
 - Б) Софроний Врачански и Александър Екзарх;
 - В) д-р П. Берон и д-р Ст. Чомаков;
 - Г) Паисий Хилендарски и Васил Друмев;
 - Д) Хр. Ботев и Ст. Стамболов.
- 12) Къде Г. С. Раковски достига до идеята, че българите трябва да разчитат преди всичко на своите сили за освобождение ?
- А) в т.нар. Белградски план за освобождение на България от 1861 г.;
 - Б) във вестник “Дунавски лебед”;
 - В) в “Привременен закон за народните горски чети за 1867-о лето”;
 - Г) във вестник “Будущност”;
 - Д) по време на престоя си в Одеса, през 1858 г.
- 13) Като резултат от четническото движение на българите в края на 60-те години на XIX век :
- А) Любен Каравелов решава да се откаже от революционна дейност;
 - Б) Османската империя е принудена да даде автономия на българите;
 - В) Англия и Франция се съгласяват да се образува южнославянска федерация между българи и сърби;
 - Г) българските революционни дейци решават да търсят помощ за освобождение единствено от Австро-Унгария и Германия;
 - Д) Високата порта става по-благоклонна към българските искания по църковнонационалния въпрос.

- 14) Първото Общо събрание на БРЦК избира за председател и подпредседател на организацията :
- А) В.Левски-председател и Олимпи Панов-подпредседател;
 - Б) Васил Левски-подпредседател и Любен Каравелов-председател;
 - В) Любен Каравелов-председател и Киряк Цанков-подпредседател;
 - Г) Христо Ботев-подпредседател и Л. Каравелов-председател;
 - Д) Стефан Стамболов-председател и В. Левски-подпредседател.
- 15) Кога Христо Ботев се включва активно в политическия живот на емиграцията и кой издаван от него вестник става орган на БРЦК?
- А) През 1874г. Вестник “Знаме” (декември 1874г. – септември 1875г.) става орган на БРЦК.
 - Б) През 1873г., след смъртта на Левски. Вестник “Дума на българските емигранти” става орган на БРЦК.
 - В) През 1871г., когато с Васил Левски зимуват в една воденица край Букурещ. Вестник “Свобода” става орган на БРЦК.
 - Г) През 1875г., когато е избран за председател на БРЦК. Вестник “Знаме” (декември 1874 – септември 1875г.) става орган на БРЦК.
 - Д) През 1876г., в навечерието на Априлското въстание, когато започва да създава чета за подкрепа на въстанието. Вестник “Независимост става орган на БРЦК.
- 16) По време на Руско-турската война 1877 – 1878 г. Осман паша :
- А) ръководи отбраната на Плевен и капитулира на 28 ноем. / 10 дек. 1877 г.;
 - Б) ръководи турските войски, разположени в четириъгълника Русе, Варна, Шумен и Силистра;
 - В) е главнокомандващ на турската войска, но впоследствие е заменен от Мехмед Али паша;
 - Г) е командващ на турските войски разположени в района на Шипка – Шейново;
 - Д) ръководи турските войски, които се опитват да превземат връх Шипка през август 1877 г..
- 17) Кога започва Освободителната за България Руско-турска война?
- А) на 3 март 1877 г.;
 - Б) 12 август 1876 г.;
 - В) юни 1877 г.;
 - Г) на 1 юли 1878 г.;
 - Д) на 1 юни 1879 г..
- 18) Кога е приет Законът за подобрене състоянието на земеделското население по господарските и чифлишките земи?
- А) през декември 1879 г. от Първото обикновено народно събрание, при управлението на консерваторите;
 - Б) през декември 1880 г. от Второто обикновено народно събрание по предложение на правителството на либералите;
 - В) през ноември 1883 г. от коалиционното правителство на Драган Цанков;
 - Г) през декември 1881 г., наложен с Указ от Александър I;
 - Д) през декември 1882 г. от Третото обикновено народно събрание, при управлението на руските генерали.

- 19) Първите правителства на възстановената Трета българска държава са от консервативната партия, защото:**
- А) консерваторите имат мнозинство в първото ОНС;
 - Б) княз Ал. Батенберг отстоява позицията си консерваторите да участват в управлението на всяка цена;
 - В) по препоръка на Русия;
 - Г) либералите отказват да образуват коалиционно правителство;
 - Д) Великите сили предпочитат правителство на консерваторите.
- 20) Кога и с кой документ се урежда статута на Източна Румелия след Съединението?**
- А) статутът на Източна Румелия остава неуреден с международен документ до обявяването на българската независимост;
 - Б) на 9 декември 1885 г. с примирието между Княжество България и Кралство Сърбия;
 - В) на 19 февруари 1886 г. с Букурещкия мирен договор;
 - Г) през октомври 1885 г. с т. нар. Лондонски протокол ;
 - Д) на 24 март 1886 г. с подписания от делегатите на великите сили т. нар. Топханенски акт.
- 21) В Източна Румелия се оформят следните политически партии:**
- А) народна и съединистка;
 - Б) народна и либерална;
 - В) либерална, народна и съединистка;
 - Г) народно-либерална, демократическа и казионна;
 - Д) прогресивно-либерална и народна.
- 22) Защо абдикира от българския престол княз Александър Батенберг?**
- А) по настояване на Австро-Унгария и Турция;
 - Б) поради влошените отношения със Сърбия и Англия;
 - В) поради силно влошените му отношения с Русия;
 - Г) поради настояването на Германия и Франция;
 - Д) поради подобряването на англо-руските отношения.
- 23) Лозунгът "Няма Батенберг, няма България" е отстояван от:**
- А) привържениците на Др. Цанков и южнобългарските съединисти;
 - Б) привържениците на П. Каравелов;
 - В) дейците на Съединението З. Стоянов, Д. Ризов и Д. Петков и либералите на д-р В. Радославов;
 - Г) офицерите-русофили в българската армия;
 - Д) най-близкото обкръжение на княз Александър I Батенберг.
- 24) Предложеният от Русия кандидат за българския престол, след абдикацията на княз Александър I Батенберг е:**
- А) Валдемар Датски;
 - Б) Фердинанд Сакскобургготски;
 - В) Николай Мингрели;
 - Г) Александър Хесенски;
 - Д) Николай Каулбарс.

- 25) Паралелната ж. п. линия на Барон Хиршовата железница започва да се строи от :
- А) правителството на Ст. Стамболов (1887-1894 г.);
 - Б) правителството на П.Каравелов през 1885 г.;
 - В) второто стамболовистко правителство в началото на ХХ век;
 - Г) правителството на д-р К. Стоилов (1894-1899 г.);
 - Д) правителството на радославистите начело с Т. Иванчов през (1899-1900 г.).
- 26) Основният проблем пред правителствата, управлявали България от 1899 до 1902 г., е:
- А) извеждането на страната от финансовата криза;
 - Б) нормализирането на отношенията с Русия;
 - В) подобряване на отношенията с Османската империя, като съюзен на Княжество България;
 - Г) приложението на предвидените в чл. 23 и чл. 62 от Берлинския договор реформи в Македония и Одринска Тракия;
 - Д) извоюването на нови берати за български владци в европейските вилаети на Османската империя.
- 27) Първите трамваи в България са пуснати в движение през:
- А) 1911 г. в София;
 - Б) 1887 г. във Варна;
 - В) 1901 г. в София;
 - Г) 1908 г. в Пловдив от барон Хирш;
 - Д) 1894 г. от правителството на К. Стоилов в София;
- 28) Кои политически партии на българската буржоазия са за съюз със Съглашението?
- А) Либералната партия, Народнолибералната партия, Младолибералната партия;
 - Б) Народната партия, Демократическата партия, Прогресивнолибералната партия;
 - В) Либералната партия, Демократическата партия, Прогресивнолибералната партия;
 - Г) Прогресивнолибералната партия, Народнолибералната партия, Либералната партия;
 - Д) Народната партия, Народнолибералната партия, Младолибералната партия.
- 29) През септември 1908 г. българският княз и австро-унгарския император се договарят:
- А) двете държави да започнат едновременни действия по нарушаване на Берлинския договор;
 - Б) Австро-Унгария да анексира Босна и Херцеговина и веднага след това България да обяви независимостта си;
 - В) България да обяви независимостта си преди Австро-Унгария да анексира Босна и Херцеговина;
 - Г) двете държави да не нарушават статуквото на Балканите преди на получат позволение от останалите велики сили;
 - Д) двете държави да подпишат военен съюз против Турция.
- 30) Първите български гимназии в Македония и Одринска Тракия са създадени:
- А) по време на българското Възраждане в Скопие и Щип ;
 - Б) от униатските мисионери през 60-те години на ХІХ век в Битоля и Охрид;
 - В) от Цариградската патриаршия в градовете Струмица и Костур;
 - Г) от Българската Екзархия и местните общини след 1878 г. в градовете Солун и Одрин;
 - Д) по силата на проведените от великите сили реформи - в градовете Сяр и Кукуш.

- 31) Проведеният от 2 до 4 януари 1903 г. конгрес на ВМОРО в Солун:
- А) взема решения за въстание, което да избухне през пролетта на 1903 г.;
 - Б) взема решение за вдигане на Горноджумайското въстание;
 - В) приема нов Правилник и Устав на ВМОРО;
 - Г) официално иска от България да обяви война на Турция;
 - Д) взема решение за прекратяване на въоръжената борба срещу Турция.
- 32) Въстанието в Битолски революционен окръг започва с овладяването на :
- А) Смилево, където е щабът начело с Дамян Груев;
 - Б) Струмица, където подготовката била сравнително най-добра;
 - В) Дебър, в резултат на избухнали размирици между българското и турското население;
 - Г) Скопие от чети дошли от България;
 - Д) Солун от последователи на Априлските атентатори.
- 33) Посочете имената на командващите Първа, Втора и Трета български армии в началото на българското участие в Първата световна война:
- А) ген. Ал. Ганчев, ген. Ив. Фичев, ген. Г. Вазов;
 - Б) ген. В. Кутинчев, ген. Хр. Хесапчиев, ген. Р. Петров;
 - В) ген. Кл. Бояджиев, ген. Г. Тодоров, ген. Ст. Тошев;
 - Г) ген. Н. Жеков, ген. Ал. Протогеров, ген. Ив. Колев;
 - Д) ген. М. Савов, ген. Ив. Русев, ген. Ив. Вълков.
- 34) През Балканската война начело на Македоно-одринското опълчение е:
- А) ген. Васил Кутинчев;
 - Б) ген. Никола Жеков;
 - В) ген. Иван Колев;
 - Г) ген. Климент Бояджиев;
 - Д) ген. Никола Генов.
- 35) Букурещкият договор предвижда (посочете невярното твърдение):
- А) българските войски трябва да се демобилизират, след което ще започне изтеглянето на румънската армия от българска територия;
 - Б) Гърция взема Егейска Македония;
 - В) в българските граници остават териториите между поречието на Струма, Места и Марица;
 - Г) Румъния получава Южна Добруджа до линията Тутракан-Екрене на Черно море;
 - Д) Сърбия получава Вардарска Македония и Пиринския край;
- 36) През юли 1914 г. България сключва заем:
- А) от Лендер банк на стойност 500 млн. франка при 5 % лихвен процент;
 - Б) от Дисконто Гезелшафт на стойност 500 млн. франка при 5 % лихвен процент;
 - В) от Дойче банк на стойност 350 млн. марки при 6% лихвен процент;
 - Г) от Парижко-Холандската банка на стойност 350 млн. франка при 5% лихвен процент;
 - Д) от Дойче банк на стойност 500 млн. марки при 6% лихвен процент.
- 37) Съгласно Брест-Литовския договор от началото на март 1918 г.:
- А) в Северна Добруджа се установява съвместно владение (кондоминиум) на Централните сили;
 - Б) Северна Добруджа е върната на България;
 - В) съдбата на Северна Добруджа ще бъде допълнително решена от международна конференция;
 - Г) Северна Добруджа остава в пределите на румънската държава;
 - Д) Северна Добруджа става владение на Съветска Русия.

- 38) Законът за трудовата повинност е приет през :
- А) юни 1920 г. от самостоятелното правителство на БЗНС;
 - Б) ноември 1923 г. от самостоятелното правителство на БЗНС;
 - В) юни 1918 г. от коалиционното правителство на Демократическата и Радикалната партия;
 - Г) ноември 1923 г. от правителството на Демократическия сговор;
 - Д) ноември 1918 г. от коалиционното правителство на БЗНС.
- 39) В самостоятелното правителство на БЗНС министър на външните работи е :
- А) Райчо Даскалов;
 - Б) Александър Димитров;
 - В) Георги Бакалов;
 - Г) Александър Стамболийски;
 - Д) Александър Оббов.
- 40) Какъв е отзвукът от деветоюнския преврат в чужбина?
- А) остра е реакцията срещу преврата в Югославия и пасивна в западните държави;
 - Б) Англия и Франция се обявяват срещу него и заплашват с война Цанковското правителство;
 - В) САЩ обещава помощ на БЗНС за връщането им на власт;
 - Г) Германия се солидаризира с юнската съпротива на сваленото правителство;
 - Д) Италия скъсва дипломатически отношения с България.